

Técnico de Nível Superior II - Suporte Administrativo Especialidade em Direito

Tipo 2 – VERDE



SUA PROVA

Além deste caderno de prova, contendo setenta questões objetivas, você receberá do fiscal de sala:

- uma folha destinada às respostas das questões objetivas.



TEMPO

- **4 horas** é o tempo disponível para a realização da prova, já incluído o tempo para a marcação da folha de respostas da prova objetiva;
- **1 hora** após o início da prova é possível retirar-se da sala, sem levar o caderno de provas;
- **1 hora** antes do término do período de prova é possível retirar-se da sala levando o caderno de provas.



NÃO SERÁ PERMITIDO

- Qualquer tipo de comunicação entre os candidatos durante a aplicação da prova;
- Levantar da cadeira sem autorização do fiscal de sala;
- Usar o sanitário ao término da prova, após deixar a sala.



INFORMAÇÕES GERAIS

- As questões objetivas têm cinco alternativas de resposta (A, B, C, D, E) e somente uma delas está correta;
- Verifique se seu caderno está completo, sem repetição de questões ou falhas. Caso contrário, notifique imediatamente o fiscal da sala, para que sejam tomadas as devidas providências;
- Confira seus dados pessoais, especialmente nome, número de inscrição e documento de identidade e leia atentamente as instruções para preencher a folha de respostas;
- Use somente caneta esferográfica, em material transparente, com tinta preta ou azul;
- Assine seu nome apenas nos espaços reservados;
- Confira seu cargo, cor e tipo do caderno de provas. Caso tenha recebido caderno de cargo ou cor ou tipo DIFERENTE do impresso em sua folha de respostas, o fiscal deve ser OBRIGATORIAMENTE informado para o devido registro na ata da sala;
- O preenchimento das respostas da prova objetiva é de sua responsabilidade e não será permitida a troca de folha de respostas em caso de erro;
- Reserve tempo suficiente para o preenchimento de suas respostas. Para fins de avaliação, serão levadas em consideração apenas as marcações realizadas na folha de respostas da prova objetiva, não sendo permitido anotar informações relativas às respostas em qualquer outro meio que não seja o caderno de provas;
- A FGV coletará as impressões digitais dos candidatos na folha de respostas;
- Durante a realização das provas, os candidatos serão submetidos ao sistema de detecção de metais quando do ingresso e da saída de sanitários.

Língua Portuguesa

TEXTO 1

BELEZA COMO MANDAMENTO

Posso falar de arte e artistas outra vez? Tenho afeição pelo tema. Espero que, em algum lugar aí no Brasil, haja leitores e leitoras, mesmo poucos, que se interessem pela figura singular e tão fundamental do artista. Ou quem sabe se dou sorte e há um ou outro artista aí fora, extraviado nesta coluna?

[...] Sempre me pareceu que o artista verdadeiro sacrifica qualquer “conteúdo”, qualquer “coerência”, por uma bela frase, por um belo gesto, por um belo efeito plástico ou cênico. Como dizia Oscar Wilde, “coerência é a virtude dos que não têm imaginação”. Dos não artistas, portanto.

O que distingue o artista é a busca incondicional pela beleza, em detrimento da verdade, do equilíbrio, do bom senso, da ética, da saúde e até da própria vida. Além disso, leitor, o artista é frequentemente um pobre ser ameaçado, com instalação precária no mundo. E, se faz concessões, corre o risco de se desvirtuar, de perder o rumo.

Assim, o artista precisa sacrificar, ou deixar em segundo plano, a verdade e a moral. A objetividade e os bons princípios são temas para outros tipos humanos, para o cientista e para o sacerdote, respectivamente. [...] Quando um artista migra para outros terrenos (ciência, moral, filosofia, pensamento social, crítica literária), o que acaba dominando, em última análise, é a expressão da beleza. Para o verdadeiro artista, a beleza é o único mandamento. Para o bem e para o mal, ela interfere o tempo todo. E a obra artística resvala para a mentira, para o engano, para a fabulação. Tangencia a imoralidade, o crime, a perversão.

(Paulo Nogueira Batista Jr., *O Globo*, 04/08/2017 – adaptado)

1

Dentre as opções a seguir, a palavra que mostra um processo de formação distinto do das demais palavras é:

- (A) objetividade.
- (B) segundo.
- (C) cientista.
- (D) respectivamente.
- (E) fabulação.

2

“E a obra artística resvala para a mentira, o engano, para a fabulação. Tangencia a imoralidade, o crime, a perversão”. Nessas frases, o colunista

- (A) contraria, surpreendentemente, suas afirmações anteriores.
- (B) indica as más consequências para os artistas que respeitam a coerência.
- (C) condena temáticas não belas nas obras de arte.
- (D) denuncia a presença, entre nós, de maus artistas.
- (E) mostra o triunfo da beleza sobre questões morais.

3

Para defender suas ideias, o colunista apela para um conjunto de argumentos, destacando-se, particularmente,

- (A) as citações de autores mundialmente famosos.
- (B) as opiniões pessoais do colunista.
- (C) a autoridade do jornal em que escreve.
- (D) a intertextualidade com outros textos de valor.
- (E) a multiplicidade de vozes que apoiam a visão do colunista.

4

O título dado ao texto é “Beleza como mandamento”. Tendo em vista o que é expresso no texto, podemos dizer que tal título

- (A) mostra uma firme convicção do colunista.
- (B) indica um tema polêmico, que é esclarecido no texto.
- (C) destaca um aspecto inédito das obras literárias modernas.
- (D) insinua uma dúvida do colunista sobre o papel da arte e dos artistas.
- (E) apoia uma opinião que é combatida no corpo do texto.

5

O texto lido utiliza um conjunto de palavras terminadas pelo mesmo sufixo – **ção**.

Assinale a alternativa que apresenta as palavras que têm rigorosamente a mesma formação.

- (A) Imaginação / afeição.
- (B) Fabulação / perfeição.
- (C) Perfeição / instalação.
- (D) Instalação / imaginação.
- (E) Afeição / fabulação.

6

“Posso falar de arte e artistas outra vez? Espero que, em algum lugar aí no Brasil, haja leitores e leitoras, mesmo poucos, que se interessem pela figura tão singular e tão fundamental do artista”.

Nesses períodos prevalece a função de linguagem denominada

- (A) metalinguística.
- (B) conativa ou apelativa.
- (C) emotiva ou expressiva.
- (D) poética.
- (E) referencial.

7

“Posso falar de arte e artistas outra vez? Espero que, em algum lugar aí no Brasil, haja leitores e leitoras, mesmo poucos, que se interessem pela figura singular e tão fundamental do artista”.

Desse segmento do texto 1, pode-se inferir várias afirmações. Assinale a opção que apresenta uma inferência **inadequada**.

- (A) O colunista já explorou o tema sobre arte e artistas em outras ocasiões.
- (B) O colunista escreve fora do Brasil.
- (C) O termo “mesmo poucos” indica um elogio a uma pequena parte de seus leitores.
- (D) O termo “leitores e leitoras” indica respeito pela divisão de gêneros.
- (E) Os adjetivos “singular” e “fundamental” mostram o apreço do colunista por artistas.

8

No primeiro parágrafo, o texto 1 fala de “um ou outro artista aí fora, extraviado nesta coluna?”.

Nesse caso, os artistas estariam “extraviados” porque

- (A) o colunista não deve tratar de temas relacionados à arte.
- (B) a coluna aborda temas de forma diferente.
- (C) o acaso pode levar alguns artistas a gostarem da coluna.
- (D) os leitores de jornais diários não gostam de arte.
- (E) elaborariam obras de arte distantes do interesse do público.

9

Sobre a pergunta inicial do texto “Posso falar de arte e artistas outra vez?”, assinale a afirmativa correta.

- (A) Indica interesse do colunista em exaltar determinado tipo de leitor.
- (B) Pretende popularizar a discussão do tema por meio de linguagem coloquial.
- (C) Mostra polidez social por solicitar hipocritamente uma permissão.
- (D) Denuncia o atraso cultural do país por pedir permissão para tratar de tema culto.
- (E) Procura interagir com seus possíveis leitores, como em outros momentos.

10

“Sempre me pareceu que o artista verdadeiro sacrifica qualquer conteúdo, qualquer coerência, por uma bela frase, por um belo gesto, por um belo efeito plástico ou cênico”.

Isso equivale a dizer que

- (A) a valiosa obra de arte não pode mostrar qualquer coerência.
- (B) os artistas verdadeiros devem procurar escrever sobre “nada”.
- (C) a beleza formal deve prevalecer sobre outros aspectos da arte.
- (D) os efeitos plásticos ou cênicos são consequência da falta de coerência.
- (E) os artistas devem sacrificar seus princípios em função da obtenção de beleza.

11

O colunista declara que a coerência não é imprescindível em uma obra de arte.

Assinale a opção que apresenta a frase em que a coerência foi respeitada.

- (A) “Saiu nu pela rua, apenas com a roupa de baixo”.
- (B) “As Forças Armadas fizeram intensa campanha contra a repressão ao roubo de cargas”.
- (C) “Na próxima oportunidade, não deixe de incluir-me fora da lista de convidados”.
- (D) “Não gosto de restaurantes caros; gosto de restaurantes bons”.
- (E) “O crítico de futebol está sempre com a razão, porque só começa a falar quando o jogo termina”.

12

A citação de Oscar Wilde no segundo parágrafo do texto tem a função textual de

- (A) indicar um ponto de vista oposto ao do colunista.
- (B) esclarecer uma opinião expressa anteriormente.
- (C) dar mais valor ao texto pela presença de autores cultos.
- (D) conferir mais credibilidade ao parecer do colunista.
- (E) valorizar a figura respeitada de Oscar Wilde.

13

Assinale o segmento do texto que mostra um emprego de linguagem informal.

- (A) “Posso falar de arte e artistas outra vez?”.
- (B) “Ou quem sabe dou sorte e há um ou outro artista aí fora”.
- (C) “O que distingue o artista é a busca incondicional da beleza”.
- (D) “Para o bem e para o mal, ela interfere o tempo todo”.
- (E) “A objetividade e os bons princípios são temas para outros tipos humanos”.

14

“Tangencia a imoralidade, o crime, a perversão”. Nesse segmento não se pode confundir “imoralidade” com “amoralidade”, seu parônimo.

Assinale a frase a seguir em que houve troca **indevida** entre parônimos.

- (A) “O Ministério dilatou os prazos anteriormente fixados”.
- (B) “A quantia vultosa impressionou os juízes do caso”.
- (C) “O Governo pretende taxar as bebidas importadas”.
- (D) “O Hospital pretendia oferecer um ambiente totalmente acético”.
- (E) “Os policiais o prenderam com discrição”.

15

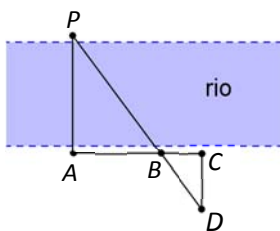
Sobre as aspas empregadas nos vocábulos “conteúdo” e “coerência”, assinale a afirmativa correta.

- (A) Não se justificam em termos de padrão culto da língua.
- (B) Destacam termos que são argumentativamente importantes.
- (C) Sublinham termos que são normalmente usados em linguagem não artística.
- (D) Ironizam empregos equivocados na literatura.
- (E) Reproduzem termos já empregados pelo mesmo colunista em outras ocasiões.

Raciocínio Lógico

16

A figura a seguir mostra um rio de margens retas e paralelas.



João, que está em uma das margens, gostaria de obter uma medida aproximada da largura do rio. Para isso, adotou o seguinte procedimento:

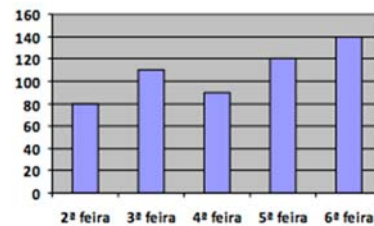
- buscou um ponto de referência na margem oposta e encontrou a pedra P;
- fixou uma estaca no ponto A, de forma que AP fosse perpendicular ao rio;
- caminhou paralelamente ao rio, fixou uma estaca em B e depois outra em C;
- a partir de C, caminhou perpendicularmente ao rio até que, no ponto D, viu as estacas B e P alinhadas com D;
- fixou mais uma estaca nesse ponto e, com uma trena, mediu as distâncias $AB = 20\text{m}$, $BC = 6\text{m}$ e $CD = 8,4\text{m}$.

A distância, em metros, de A até P é de

- (A) 22,6.
- (B) 24,0.
- (C) 25,5.
- (D) 27,2.
- (E) 28,0.

17

Uma companhia de táxis registrou o número de atendimentos em cada dia de certa semana. Esses dados podem ser vistos no gráfico a seguir.



Os atendimentos dos três primeiros dias da semana representam, do total de atendimentos da semana, o percentual aproximado de

- (A) 44%.
- (B) 48%.
- (C) 52%.
- (D) 55%.
- (E) 58%.

18

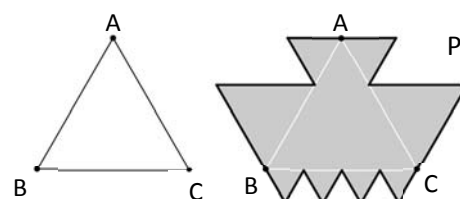
Entre as pessoas A, B, C, D e E, será sorteada uma comissão de três membros. A probabilidade de que A e B estejam na comissão ou de que C esteja na comissão, é de

- (A) 60%.
- (B) 64%.
- (C) 72%.
- (D) 75%.
- (E) 80%.

19

A figura a seguir mostra, do lado esquerdo, um triângulo equilátero ABC, com 9 cm de lado.

Sobre os lados desse triângulo, foram construídos novos triângulos equiláteros, o que deu origem ao polígono P, que se vê à direita.



O perímetro do polígono P, em centímetros, é

- (A) 54.
- (B) 60.
- (C) 72.
- (D) 81.
- (E) 108.

20

Em um concurso, há 150 candidatos em apenas duas categorias: nível superior e nível médio.

Sabe-se que:

- dentre os candidatos, 82 são homens;
- o número de candidatos homens de nível superior é igual ao de mulheres de nível médio;
- dentre os candidatos de nível superior, 31 são mulheres.

O número de candidatos homens de nível médio é

- (A) 42.
- (B) 45.
- (C) 48.
- (D) 50.
- (E) 52.

21

Considere a afirmação:

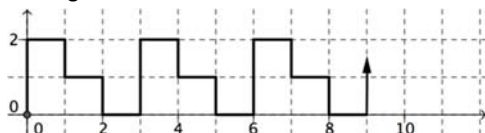
“Se um sapo é verde, então não come minhoca”.

A partir dessa afirmação, conclui-se, logicamente, que

- (A) “Se um sapo come minhoca, então não é verde”.
- (B) “Se um sapo não come minhoca, então é verde”.
- (C) “Se um sapo não é verde, então come minhoca”.
- (D) “Um sapo é verde, ou não come minhoca”.
- (E) “Um sapo não é verde, ou come minhoca”.

22

A figura a seguir mostra o plano cartesiano dividido em quadradinhos de 1 cm de lado. Uma linha poligonal, com início na origem, foi construída, mantendo sempre o mesmo padrão, como mostrado na figura.



A linha poligonal tem 200 cm de comprimento.

A extremidade da linha poligonal é o ponto

- (A) (84, 1).
- (B) (84, 2).
- (C) (86, 1).
- (D) (85, 1).
- (E) (85, 2).

23

Dalva, Bruna e Carla são advogadas, sendo duas delas irmãs. Cada advogada possui uma especialidade: uma é trabalhista; outra, civilista; e, a outra, penalista.

Sabe-se que:

- Dalva não é advogada trabalhista;
- Bruna não é advogada civilista;
- a irmã de Carla é advogada penalista;
- a que não tem irmã nesse grupo é advogada trabalhista.

É correto concluir que

- (A) Dalva é advogada civilista.
- (B) Carla é advogada civilista.
- (C) Bruna é advogada penalista.
- (D) Carla é advogada trabalhista.
- (E) Bruna e Carla são irmãs.

24

Severino pagou uma conta de luz de R\$ 350,00. Ele descobriu depois que, do valor que pagou, 46% são impostos.

Se o imposto fosse de apenas 10% do valor da conta, a conta de Severino seria de

- (A) R\$ 206,00.
- (B) R\$ 208,00.
- (C) R\$ 210,00.
- (D) R\$ 212,00.
- (E) R\$ 215,00.

25

Considere a afirmação:

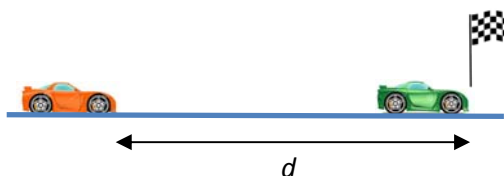
“Todos os baianos gostam de axé e de acarajé”.

A negação lógica dessa frase é:

- (A) “Nenhum baiano gosta de axé nem de acarajé”.
- (B) “Nenhum baiano gosta de axé ou de acarajé”.
- (C) “Alguns baianos gostam de axé, mas não de acarajé”.
- (D) “Quem não gosta de axé nem de acarajé não é baiano”.
- (E) “Pelo menos um baiano não gosta de axé ou não gosta de acarajé”.

26

Na reta final de uma corrida de carros, os dois primeiros colocados estavam a 210 km/h, mas o segundo colocado passou pela linha de chegada 0,3 segundo após o primeiro.



Quando o primeiro cruzou a linha de chegada, a distância d entre os dois carros era

- (A) 17,5 m.
- (B) 18,6 m.
- (C) 19,6 m.
- (D) 20,4 m.
- (E) 21,0 m.

27

Beatriz pediu a Lucas para escolher um número inteiro sem dizer qual é. Em seguida, ela pediu que ele fizesse, sucessivamente, algumas operações aritméticas começando com o número escolhido:

- some 6;
- multiplique o resultado por 2;
- subtraia 14 do que você encontrou;
- multiplique esse número por 3; e, finalmente,
- some 8.

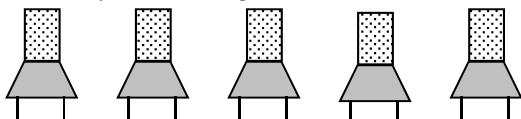
O resultado final encontrado por Lucas foi 140.

O número em que ele pensou inicialmente

- (A) está entre 10 e 20.
- (B) é múltiplo de 3.
- (C) é múltiplo de 7.
- (D) é primo
- (E) tem o algarismo das unidades igual a 5.

28

Cinco pessoas de diferentes alturas devem ocupar as cinco cadeiras abaixo para uma fotografia.



O fotógrafo pediu que nem o mais baixo nem o mais alto ocupassem as cadeiras das extremidades.

Respeitando essa condição, o número de maneiras como as pessoas podem se posicionar para a fotografia é

- (A) 12.
- (B) 18.
- (C) 24.
- (D) 36.
- (E) 72.

29

A cidade de Salvador foi fundada em 29 de março de 1549, uma sexta-feira. Nesse ano, o dia 1º de janeiro foi

- (A) uma segunda-feira.
- (B) uma terça-feira.
- (C) uma quarta-feira.
- (D) uma quinta-feira.
- (E) um sábado.

30

Em um grupo de 10 pessoas, o peso médio é de 86 kg. Duas pessoas, uma pesando 90 kg e outra pesando 70 kg, saíram do grupo.

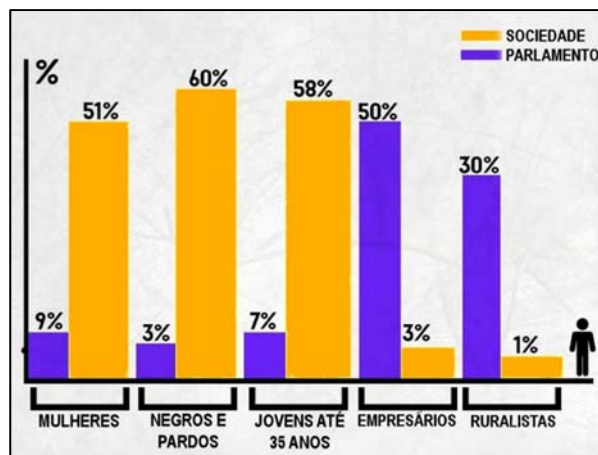
O peso médio das pessoas restantes é de

- (A) 81,5 kg.
- (B) 83,0 kg.
- (C) 87,5 kg.
- (D) 85,5 kg.
- (E) 89,0 kg.

Atualidades

31

O Congresso representa quem, mesmo?



in Revista Caros Amigos, Ano XIX, julho de 2015.

A respeito da relação entre a sociedade brasileira e sua representação no Parlamento Federal, com base no gráfico, assinale (V) para a afirmativa verdadeira e (F) para a falsa.

- () Os segmentos indicados a partir de suas atividades econômicas mostram uma representação política inversamente proporcional à sua expressão numérica na sociedade brasileira.
- () Há grandes disparidades entre segmentos da população brasileira e seus representantes no Congresso, embora as questões étnicas sejam as que apresentam menor divergência.
- () Os segmentos majoritários da sociedade brasileira possuem representação proporcional no Parlamento, indicando um processo de amadurecimento das instituições democráticas no país.

As afirmativas são, de cima para baixo.

- (A) F – V – F.
- (B) F – V – V.
- (C) V – F – F.
- (D) V – V – F.
- (E) F – F – V.

32

O IBGE divulgou que o PIB (Produto Interno Bruto) cresceu 1% no primeiro trimestre de 2016, em relação ao quarto trimestre do mesmo ano, já retirados os efeitos sazonais. É o primeiro número positivo desde o final de 2014, e o principal fator para este resultado foi o desempenho do setor agropecuário, que cresceu 13,4% no período. Os serviços, que respondem por mais de 70% do PIB, ficaram estáveis. A indústria também teve resultado positivo, com alta de 0,9%.

(Adaptado de <http://www1.folha.uol.com.br/mercado/>)

Com relação ao desempenho positivo do agronegócio brasileiro, analise as afirmativas a seguir.

- I. O agronegócio é responsável por uma grande parte da produção nacional brasileira, impulsionando também a demanda em outros segmentos, como, por exemplo, o de insumos e o de transporte de cargas.
- II. O agronegócio tem papel relevante no incremento das exportações brasileiras para países orientais, sobretudo a China, que concentram a demanda em produtos do complexo da soja.
- III. O agronegócio expandiu suas cadeias produtivas graças à ampliação de áreas de cultivo e ao desenvolvimento de novas tecnologias, sendo responsável pela geração de empregos no campo.

Está correto o que se afirma em

- (A) I, somente.
- (B) II, somente.
- (C) III, somente.
- (D) I e II, somente.
- (E) I, II e III.

33



<http://portal.iphan.gov.br>

Em 2013, a Festa do Nosso Senhor do Bonfim, comemorada em Salvador (BA), recebeu o título de Patrimônio Cultural do Brasil.

A principal razão para esse reconhecimento está associada

- (A) à valorização de ritmos musicais e danças brasileiras de origem luso-africanas.
- (B) à política de inclusão de tradições africanas e indígenas na cultura erudita do país.
- (C) ao incentivo de ações afirmativas e de mobilização social da juventude.
- (D) ao reconhecimento da vivência coletiva da religiosidade católica e afro-brasileira.
- (E) à preservação de bens arquitetônicos e arqueológicos soteropolitanos.

34

Nos últimos anos, os cientistas descobriram uma nova técnica para "recortar" e mudar partes do código genético, conseguindo eliminar trechos indesejados do genoma, que causam doenças e, se necessário, inserir novas sequências no local. Essa possibilidade de "cortar e colar" partes do código genético tornou possível a cura de algumas condições hereditárias, como, por exemplo, o diabetes, a obesidade, a fibrose cística e tipos graves de distrofia muscular.

Essa nova técnica é conhecida como

- (A) edição de DNA.
- (B) transplante de órgãos.
- (C) implante de células-tronco.
- (D) reprodução por clonagem.
- (E) inseminação artificial.

35

Entre as décadas de 1940 e 1960, a obra de Diógenes Rebouças (1914-1994), considerado o mais importante arquiteto moderno da Bahia, ajudou a definir uma linguagem arquitetônica para o modernismo baiano que apresenta, como traços distintivos, o uso do concreto armado aparente, a valorização das estruturas, o emprego de grandes vãos e a ênfase na luminosidade natural.

Observe as imagens a seguir, que exemplificam diversas tendências arquitetônicas presentes na cidade de Salvador.



I - Faculdade de Arquitetura da UFBA



II - Elevador Lacerda



III - Edifício Suarez Trade Center



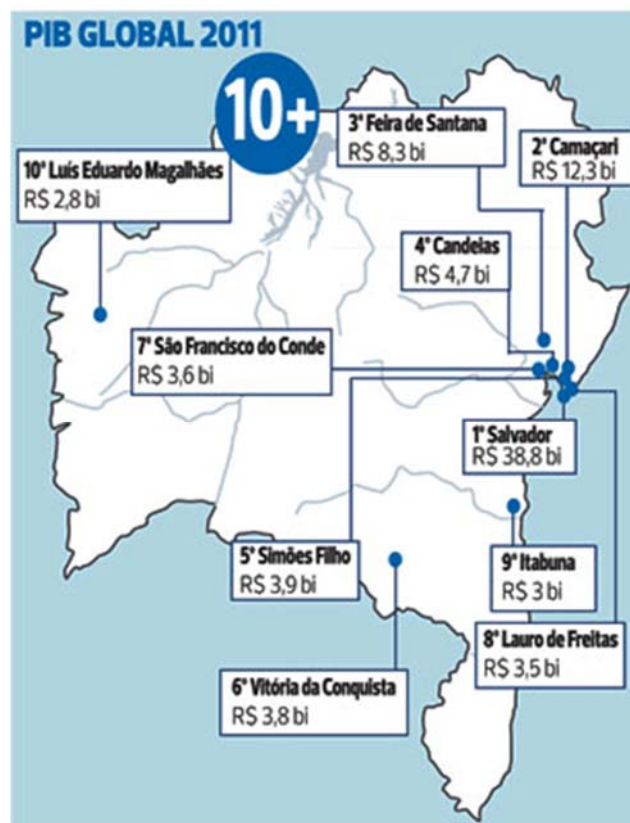
IV - Mercado Modelo

Com base nas imagens, podemos afirmar que o modernismo arquitetônico está representado em

- (A) I, apenas.
- (B) II, apenas.
- (C) III, apenas.
- (D) I e II, apenas.
- (E) III e IV, apenas.

36

Observe o mapa do IBGE a respeito do PIB global do Estado da Bahia.



As opções a seguir apresentam afirmativas corretas sobre as contribuições dos municípios para o Produto Interno Bruto (PIB) do Estado, à exceção de uma. Assinale-a.

- (A) O PIB da Bahia está concentrado na Região Metropolitana de Salvador (RMS), o que a transforma em um polo de riqueza nacional.
- (B) A elevada participação de Salvador no PIB baiano deve-se ao fato de ser o município mais populoso, além de um importante polo de turismo e comércio.
- (C) Os PIBs de Camaçari, Candeias e Simões Filho se justificam pela participação na cadeia do petróleo e na indústria petroquímica do Estado.
- (D) A economia de Vitória da Conquista foi impulsionada pela presença de usinas hidroelétricas da Companhia do São Francisco (Chesf).
- (E) Feira de Santana ocupa a terceira colocação por ser um importante entreposto comercial e entroncamento das principais rodovias federais e estaduais.

37

A Secretaria de Meio Ambiente do Estado da Bahia criou um mapa das experiências socioambientais, com o objetivo de divulgar e promover as ações voltadas à sustentabilidade existentes no estado. Leia o relato do projeto "Barreiras mais verde", que começou em 2015 no Município de Barreiras, no bioma Cerrado da Bahia.

O "Barreiras Mais Verde" é uma ação da Secretaria de Meio Ambiente de Barreiras com o objetivo de realizar o reflorestamento do Parque do Humaitá a partir do plantio de 13.600 mudas e disponibilizar mudas para a arborização da cidade. Para atender a essa demanda, e também às demandas da sociedade, foi implantado um viveiro onde são cultivadas espécies nativas. O viveiro também funciona como um espaço educador, onde são realizadas constantemente atividades de Educação ambiental durante as visitas das escolas.

A experiência relatada promove ações diretamente voltadas para

- (A) a descontaminação de lençol freático.
- (B) a conservação da biodiversidade.
- (C) o cooperativismo de base popular.
- (D) o beneficiamento econômico.
- (E) o consumo sustentável.

38

A denúncia de desvios de verbas, a investigação de agentes públicos e privados, o desmantelamento de esquemas para beneficiar indevidamente órgãos e instituições, têm ocupado as manchetes diárias da mídia impressa e televisiva, familiarizando o cidadão brasileiro com uma terminologia jurídica sobre os crimes associados à corrupção.

Relacione os tipos de crime listados abaixo às suas respectivas caracterizações.

1. Corrupção ativa
 2. Tráfico de influência
 3. Extorsão
- () Oferecimento de alguma forma de compensação para que o agente público deixe de fazer algo que, dentro de suas funções, deveria fazer.
 - () Uso de uma posição privilegiada dentro de uma empresa ou entidade, ou das conexões com pessoas em posição de autoridade, para obter favores ou benefícios para terceiros.
 - () Ato de obrigar alguém a fazer ou deixar de fazer alguma coisa, mediante violência ou ameaça, com a intenção de obter vantagem, recompensa ou lucro.

Assinale a opção que mostra a relação correta, de cima para baixo.

- (A) 1, 3 e 2
- (B) 1, 2 e 3
- (C) 2, 1 e 3
- (D) 2, 3 e 1
- (E) 3, 2 e 1

39

A política de imigração do Governo Trump é alvo de duras críticas veiculadas pela imprensa e pelas redes sociais, como no exemplo das charges a seguir, que, além de imagens contundentes, apresentam dizeres como "Não ao banimento".



<http://indianexpress.com>

As medidas polêmicas da política norte-americana de imigração, listadas a seguir estão corretas, **à exceção de uma**. Assinale-a.

- (A) O projeto de construção de um muro na divisa com o México, para impedir a entrada de imigrantes e refugiados por essa fronteira.
- (B) O aumento da fiscalização dos visitantes que requerem visto de entrada para os Estados Unidos, incluindo a verificação de dados das redes sociais.
- (C) A criação de legislação para estimular a imigração de empresários cubanos para os Estados Unidos, de modo a enfraquecer e isolar a economia cubana.
- (D) A proposta de mudança nos critérios para concessão do *green card* (autorização para residência nos Estados Unidos), privilegiando imigrantes qualificados de língua inglesa.
- (E) O decreto anti-imigração impedindo a entrada nos Estados Unidos de cidadãos de países muçulmanos (como o Irã e o Iêmen) que não tenham vínculo com pessoas ou entidades norte-americanas.

40



Manifestantes venezuelanos protestam contra as políticas de Nicolás Maduro com um cartaz, no qual se lê: "Insegurança. Inflação. Escassez. Violência. Esta não é a Venezuela onde cresci #SOS".

Desde a morte de Hugo Chávez, em 2013, as tensões entre o governo de Nicolás Maduro e a oposição se intensificaram e o atual presidente está em dificuldade para dar continuidade às políticas do "socialismo bolivariano" de seu antecessor.

Assinale a opção que identifica corretamente um fator que vem agravando a recente crise política e econômica da Venezuela.

- (A) A queda nas exportações de petróleo, em função do avanço da demanda por fontes de energias renováveis no mercado internacional.
- (B) O desabastecimento crônico, causado pela política de privatização dos setores básicos de produção e distribuição de alimentos e insumos.
- (C) O intervencionismo norte-americano, responsável pela instalação de bases militares no país e pelo patrulhamento do Pacífico pela quarta frota dos Estados Unidos.
- (D) A expulsão da Venezuela da Organização dos Estados Americanos (OEA) em razão de seu apoio ao regime de Cuba e Honduras.
- (E) A perda da maioria no Legislativo, por parte das forças chavistas nas eleições de dezembro de 2015, o que aprofundou o impasse entre a oposição e o governo de Maduro.

Conhecimentos Específicos

41

Tício é servidor público estadual, ocupante do cargo de provimento efetivo de Agente Fazendário, para o qual foi aprovado mediante concurso público de provas e títulos. Tício tomou posse há um ano e meio, ainda se encontrando em estágio probatório.

Considerando o exposto, assinale a afirmativa correta.

- (A) A aquisição da estabilidade por parte de Tício, servidor público estadual, dar-se-á após o prazo definido na Constituição do Estado, que pode variar entre 2 (dois) e 3 (três) anos.
- (B) Após a aquisição de estabilidade, Tício somente perderá o seu cargo em virtude de sentença judicial transitada em julgado ou mediante procedimento de avaliação periódica de desempenho, na forma de lei complementar.
- (C) Como condição para a aquisição da estabilidade, é obrigatória a avaliação especial de desempenho por comissão instituída para essa finalidade.
- (D) Caso Tício seja demitido do serviço público e obtenha decisão judicial invalidando a sua demissão, deverá ser considerado aposentado com proventos proporcionais ao tempo de contribuição.
- (E) Após três anos de efetivo serviço, não tendo qualquer anotação desabonadora em sua ficha funcional, Tício será considerado estável em seu cargo.

42

O Município Alfa pretende reformar a Praça do Chafariz, no centro da cidade, como forma de revitalizar a área. O projeto da Prefeitura prevê novo pavimento para a praça e a construção de uma réplica do Arco do Triunfo da França, tendo o custo estimado de R\$ 1.600.000,00 (um milhão e seiscentos mil reais).

Considerando a intenção, já anunciada, de contratar o famoso pintor Constantino Romano, artista consagrado, para a execução da obra, assinale a afirmativa correta.

- (A) É possível a contratação direta, por inexigibilidade de licitação, considerando a inviabilidade de competição e, ainda, por se tratar de profissional consagrado.
- (B) É possível a contratação direta, por dispensa de licitação, considerando o valor total estimado para a execução da obra.
- (C) É obrigatória a adoção do pregão na forma eletrônica, considerando estar-se diante de obra comum de engenharia.
- (D) É possível a contratação direta, por inexigibilidade de licitação, ou, ainda, a realização de licitação na modalidade de concurso.
- (E) Não é possível a contratação direta do referido pintor, seja por dispensa, seja por inexigibilidade de licitação, devendo-se proceder à licitação.

43

Flávio de Souza, ex-Secretário de Saúde do Estado “X”, é réu em ação de improbidade ajuizada pelo próprio Estado, na qual se pleiteia sua condenação pela prática de ato que importou enriquecimento ilícito; celebração de contrato com empresa que passou a custear passagens aéreas para a esposa do Secretário, como forma de manter cordiais as relações entre ambos.

Em sua defesa, ele alega que não houve lesão ao erário, uma vez que os valores cobrados pela empresa eram compatíveis com os preços de mercado, e que o pagamento de passagens aéreas se deu a outra pessoa (sua esposa), afastando a caracterização do ato de improbidade.

Sobre o caso narrado, assinale a afirmativa **incorreta**.

- (A) A devolução do valor correspondente às passagens aéreas recebidas pela esposa deve constar obrigatoriamente de eventual sentença condenatória aplicada ao Secretário.
- (B) A ação de improbidade pela prática de ato que importou enriquecimento ilícito pode ser proposta até cinco anos após o término do exercício do cargo de Secretário.
- (C) A defesa do Secretário procede, porque, sem a configuração da lesão ao erário, como alegado, não é possível caracterizar a prática de ato de improbidade.
- (D) A percepção, para si ou para outrem, de qualquer vantagem econômica pela empresa contratada pelo Poder Público caracteriza ato de improbidade.
- (E) A perda da função pública, a suspensão dos direitos políticos de oito a dez anos e o pagamento de multa civil estão entre as penalidades a que está sujeito o Secretário.

44

A União pretende licitar a compra de um helicóptero. Para tanto, publicou, na imprensa oficial, edital de concorrência para a aquisição daquele bem, prevendo, dentre suas cláusulas, que, no caso de empate entre as propostas, será assegurada preferência, sucessivamente, (1) aos bens produzidos por empresas brasileiras e (2) aos bens produzidos no país.

Considerando o que dispõe a legislação federal, assinale a afirmativa correta.

- (A) A cláusula editalícia é inválida, porque não se admite, em edital de licitação, o estabelecimento de qualquer preferência aos licitantes em razão da origem. Em razão disso, o edital pode ser impugnado por qualquer cidadão.
- (B) A cláusula editalícia é inválida, porque não se admite, em edital de licitação, o estabelecimento de qualquer preferência aos licitantes em razão da origem, mas apenas os licitantes podem impugnar o edital.
- (C) A cláusula editalícia é inválida, porque, no caso de empate entre as propostas, deve ser assegurada preferência, primeiramente, aos bens produzidos no país. Em razão disso, o edital pode ser impugnado por qualquer cidadão.
- (D) A cláusula editalícia é inválida, porque, no caso de empate entre as propostas, deve ser assegurada preferência, primeiramente, aos bens produzidos no país, mas apenas os licitantes podem impugnar o edital.
- (E) A cláusula editalícia é inválida, porque, no caso de empate entre as propostas, a única preferência admitida pela legislação é em relação aos bens produzidos por empresas brasileiras, e apenas os licitantes podem impugnar o edital.

45

A Agência Nacional de Vigilância Sanitária - ANVISA, autarquia federal, determinou a apreensão do suplemento alimentar "Força Power Mega Ultra", que, segundo a autarquia, não apresentaria garantias de eficácia, segurança e qualidade, colocando em risco a saúde dos eventuais usuários. Além disso, determinou a imposição de multa ao fabricante do produto.

Considerando o exposto, assinale a afirmativa correta.

- (A) A autarquia federal, no exercício regular do poder de polícia, pode apreender o suplemento alimentar em condição irregular, independentemente de autorização judicial prévia.
- (B) A autarquia que não integra a administração direta da União, dos Estados ou do Município não pode exercer o poder de polícia, como a apreensão do referido suplemento.
- (C) No exercício do poder de polícia, a autarquia federal pode aplicar multa ao fabricante do produto que não apresenta as garantias de eficácia e segurança, mas não determinar a sua apreensão.
- (D) Para permitir atuação eficaz em todo o país, é lícita a delegação, por parte da autarquia, das atividades de controle e fiscalização a pessoas de direito privado contratadas após a licitação.
- (E) A autarquia pode apreender o suplemento alimentar irregular, mas somente após o exercício do contraditório e da ampla defesa pelo fabricante do produto.

46

O Governador do Estado “X” encaminhou à Assembleia Legislativa projeto de lei prevendo a criação de dois órgãos públicos: o primeiro, a Superintendência de Serviços Públicos, pertencente à estrutura da Secretaria de Estado de Governo; e o segundo, a Subsecretaria de Assuntos Turísticos, pertencente à Secretaria de Estado de Desenvolvimento Regional.

A criação dos dois órgãos é exemplo de

- (A) descentralização administrativa.
- (B) permissão de serviços públicos.
- (C) poder normativo.
- (D) delegação de serviços públicos.
- (E) desconcentração administrativa.

47

Zacarias, servidor público do Estado "X", com lotação na Secretaria de Estado de Segurança Pública, teve deferido seu pedido de gozo de férias por parte de seu superior imediato. No terceiro dia de suas férias, entretanto, a Administração percebeu que, por equívoco, o pedido fora analisado e deferido pelo chefe direto de Zacarias, e não pelo Secretário, agente público competente para a prática do ato.

Nesse caso,

- (A) é possível a convalidação do ato administrativo, mas apenas se praticada pelo Governador do Estado, superior hierarquicamente ao Secretário.
- (B) não é possível a convalidação do ato administrativo, mas a anulação do ato deve ser precedida da manifestação de Zacarias, em homenagem ao contraditório e à ampla defesa.
- (C) não é possível a convalidação do ato administrativo, devendo o deferimento das férias a Zacarias ser anulado pela Administração, com o pagamento de indenização ao servidor.
- (D) não é possível a convalidação do ato administrativo, mas, em atenção à segurança jurídica e à boa-fé, deve ser dado prazo razoável para o retorno de Zacarias ao serviço.
- (E) é possível a convalidação do ato administrativo de deferimento das férias pelo Secretário de Estado, podendo Zacarias continuar no gozo de suas férias.

48

A União celebrou um contrato de parceria público-privada, pelo período de 30 (trinta) anos, para a concessão patrocinada de uma rodovia federal, incluindo a realização de obras de ampliação e a futura gestão da rodovia, que será pedagiada.

Sobre esse contrato, assinale a afirmativa correta.

- (A) É nulo o contrato celebrado pela União, por prever prazo superior ao admitido em lei.
- (B) Antes da celebração do contrato, deverá ser constituída sociedade de propósito específico, incumbida de implantar e gerir o objeto da parceria.
- (C) Considerando que a rodovia será pedagiada, não é possível o estabelecimento de uma contraprestação pecuniária ao parceiro privado.
- (D) Não se admite a contratação de parceria público-privada que envolva a prévia execução de obra, como pretendido pela União.
- (E) A União somente poderá celebrar parceria público-privada com a participação dos Estados servidos pela rodovia.

49

O Estado "Alfa" publicou aviso de *pregão* na imprensa oficial, com vistas à aquisição de impressoras multifuncionais, conforme especificações técnicas definidas no edital.

Considerando o exposto, assinale a afirmativa correta.

- (A) Após a fase de habilitação, serão abertos, na mesma sessão, os envelopes contendo a indicação do objeto e do preço oferecidos, ocasião em que serão ordenadas e classificadas as propostas.
- (B) Para o julgamento e a classificação das propostas, será adotado no *pregão*, preferencialmente, o critério de melhor técnica e preço.
- (C) No curso da sessão, os autores das duas ofertas de valor mais baixo poderão fazer novos lances verbais e sucessivos, até a proclamação do vencedor.
- (D) Após ordenadas as ofertas, o pregoeiro procederá à abertura do invólucro contendo os documentos de habilitação do licitante que apresentou a melhor proposta, para verificação do atendimento das condições fixadas no edital.
- (E) Caso o licitante vencedor não atenda às exigências de habilitação, proceder-se-á a uma nova fase de lances orais, até a proclamação do vencedor.

50

A União celebrou contrato com a empresa "*Up and Down Engenharia de Software*" para o desenvolvimento de um programa de computação para as Forças Armadas. O contrato foi celebrado com o valor de R\$ 50.000.000,00 (cinquenta milhões de reais). Durante a execução do contrato, foram encontradas dificuldades referentes à segurança do tráfego de dados e informações sigilosas.

Considerando o exposto, assinale a afirmativa correta.

- (A) Mesmo com a manutenção do objeto, a Administração pode reduzir unilateralmente o valor do contrato, caso perceba que o programa já não atende às necessidades das Forças Armadas.
- (B) Considerando as especificidades do objeto e o seu elevado valor, é possível a celebração de contrato por prazo indeterminado, até ser integralmente concluído o programa.
- (C) Caso não persista o interesse da Administração na conclusão do objeto, ela deve anular o contrato administrativo celebrado com a empresa "*Up and Down*".
- (D) É possível a prorrogação do prazo de conclusão do objeto contratado, caso a Administração altere as especificações técnicas do programa a ser desenvolvido.
- (E) O contratado é obrigado a aceitar, nas mesmas condições, os acréscimos indicados pela Administração, até o limite de 50% do valor inicial atualizado do contrato.

51

Analise o seguinte *iter* do processo legislativo adotado para a apreciação do Projeto W1:

- (I) o Presidente da República apresentou o projeto de lei à Câmara dos Deputados;
- (II) a Câmara dos Deputados o aprovou sem qualquer alteração;
- (III) ato contínuo, o projeto foi encaminhado ao Senado Federal, que introduziu pequenas modificações em sua essência;
- (IV) o projeto foi encaminhado ao Chefe do Poder Executivo;
- (V) como o projeto foi parcialmente vetado, o Senado Federal reuniu-se para sua apreciação e decidiu manter o veto.

À luz da sistemática constitucional, estão procedimentalmente corretas as fases

- (A) I, II, III e IV.
- (B) I, III, IV e V.
- (C) I, II, IV, e V.
- (D) I, II e III.
- (E) I, III e V.

52

Alice e Roberto, estudantes de Direito, travaram intensos debates a respeito das características da Súmula Vinculante.

Alice defendia que qualquer litigante tinha legitimidade para propor a sua edição, acrescentando que o seu surgimento exigia decisão tomada pela maioria absoluta dos membros do tribunal competente. Roberto, por sua vez, sustentava que a súmula vinculante deveria ser seguida pelos órgãos de todos os Poderes e a sua inobservância poderia ensejar o ajuizamento de reclamação, endereçada diretamente ao tribunal competente.

Sobre a posição dos dois estudantes, à luz da sistemática constitucional, assinale a afirmativa correta.

- (A) Alice está totalmente correta e Roberto parcialmente correto.
- (B) Alice está totalmente incorreta e Roberto parcialmente correto.
- (C) Alice e Roberto estão totalmente incorretos.
- (D) Alice está parcialmente correta e Roberto totalmente incorreto.
- (E) Alice está parcialmente correta e Roberto totalmente correto.

53

Antônio, servidor público municipal, analisou o regime jurídico da categoria e constatou que determinado direito afeto aos servidores públicos, previsto na Constituição da República desde a sua promulgação, não havia sido objeto de disciplina pela legislação infraconstitucional.

Por entender que esse estado de coisas não poderia comprometer a eficácia da norma constitucional, formulou requerimento administrativo para que o direito fosse concedido. O requerimento, no entanto, foi indeferido, sob o argumento de que eram ignorados os requisitos a serem preenchidos por Antônio, já que a lei ainda não os estipulara. Ato contínuo, ele procurou um advogado para que ingressasse com a medida judicial cabível.

À luz da narrativa acima, assinale o instrumento constitucional passível de ser utilizado pelo advogado de Antônio.

- (A) Mandado de Injunção
- (B) Mandado de Segurança
- (C) Ação Popular
- (D) *Habeas Data*
- (E) Ação Estatutária

54

João da Silva, Ministro de Estado, praticou condutas que podem ser enquadradas nas figuras tipológicas dos crimes comuns e dos crimes de responsabilidade. Preocupado com a grande repercussão dos fatos, solicitou a orientação de um advogado para delinear sua estratégia de defesa.

De acordo com o advogado, caso o Ministro de Estado viesse a ser acusado, (I) os crimes comuns seriam julgados pelo Poder Judiciário; (II) os crimes de responsabilidade seriam julgados pelo Poder Legislativo; e (III) o Poder Legislativo poderia deliberar pela sustação do andamento das ações.

À luz dos dados fornecidos, assinale a opção que indica as orientações fornecidas pelo advogado que se harmonizam com a sistemática constitucional.

- (A) I, apenas.
- (B) II, apenas.
- (C) II e III, apenas.
- (D) I e III, apenas.
- (E) I, II e III.

55

João, cidadão brasileiro, era litigante em determinado processo judicial.

O Juiz de Direito, titular do órgão jurisdicional para o qual fora distribuído o processo, além de adiar em demasia a prolação da sentença, vinha adotando, no decorrer da relação processual, diversos entendimentos que, embora fundamentados, eram francamente divergentes da doutrina e da jurisprudência predominantes.

Ao tomar conhecimento desses fatos, João solicitou ao seu advogado que adotasse providências junto ao Conselho Nacional de Justiça.

À luz da narrativa acima e da sistemática constitucional, é correto afirmar que o Conselho Nacional de Justiça

- (A) não pode adotar qualquer providência na hipótese em tela sem o prévio exaurimento das instâncias administrativas locais, em razão do princípio da subsidiariedade.
- (B) pode adotar providências em relação ao atraso na prestação jurisdicional, mas não a respeito do entendimento jurídico do magistrado.
- (C) pode adotar providências em relação ao entendimento jurídico do magistrado, mas não a respeito do atraso na prestação jurisdicional.
- (D) pode adotar providências em relação a quaisquer dos fatos constatados por João, desde que o magistrado tivesse sido previamente comunicado da incorreção do seu comportamento.
- (E) não pode adotar providências em relação a quaisquer dos fatos constatados por João, em razão do princípio da separação dos poderes.

56

Em momento anterior à promulgação da Constituição da República, estavam em vigor as Leis X, Y e Z, tendo, essa última, revogado a Lei W.

A Lei X era formal e materialmente compatível com a nova ordem constitucional.

A Lei Y era formalmente incompatível e materialmente compatível com a nova ordem constitucional.

A Lei Z era formal e materialmente incompatível com a nova ordem constitucional, sendo certo que a revogada Lei W, caso estivesse vigendo, seria formal e materialmente compatível com a nova ordem constitucional.

À luz da narrativa acima, assinale a afirmativa correta.

- (A) A Lei X foi recepcionada e as Leis Y e Z foram revogadas, ressalvada a hipótese de a nova ordem constitucional ter determinado, expressamente, a permanência em vigor destas últimas.
- (B) As Leis X, Y e Z foram revogadas pela nova ordem constitucional, já que a narrativa não faz menção à existência de comando constitucional expresso prevendo a sua recepção.
- (C) As Leis X e Y foram recepcionadas pela nova ordem constitucional, em razão de sua compatibilidade material, e a Lei W foi repristinada em decorrência da revogação da lei revogadora.
- (D) A Lei Z foi revogada e as Leis X e Y foram recepcionadas pela nova ordem constitucional, sendo certo que esta última passou a ter a mesma natureza jurídica da espécie legislativa prevista na nova sistemática.
- (E) A Lei X foi recepcionada pela nova ordem constitucional, a Lei Y foi revogada e a Lei W foi repristinada em razão da não recepção da lei revogadora.

57

De acordo com o Art. 5º, inciso XIII, da Constituição da República, *“é livre o exercício de qualquer trabalho, ofício ou profissão, atendidas as qualificações que a lei estabelecer”*.

Considerando a classificação das normas constitucionais quanto à aplicabilidade, é correto afirmar que, do referido preceito constitucional, é obtida uma norma de eficácia

- (A) plena.
- (B) contida.
- (C) programática.
- (D) limitada.
- (E) principiológica.

58

A Constituição do Estado Alfa, com o objetivo de estabelecer mecanismos de controle democrático e evitar os excessos constantemente detectados no âmbito do Poder Executivo, dispôs:

Art. 21. O Chefe do Poder Executivo somente poderia se ausentar do país, por qualquer prazo, com autorização da Assembleia Legislativa.

Art. 31. Projetos de lei concernentes a quaisquer matérias podem ser apresentados pelos Deputados Estaduais.

Art. 41. O Governador do Estado está autorizado a editar medidas provisórias. (Considerado prejudicial ao interesse público pelos movimentos sociais de combate à arbitrariedade.)

À luz da sistemática estabelecida pela Constituição da República, com especial realce para o princípio da simetria constitucional, assinale a opção que indica o(s) artigo(s) constitucional(is).

- (A) Somente o Art. 21.
- (B) Somente o Art. 31.
- (C) Somente o Art. 41.
- (D) Somente os artigos 21 e 41.
- (E) Somente os artigos 31 e 41.

59

Margarida é empregada em uma empresa pública municipal de Salvador, para a qual foi aprovada como técnica administrativa. Ocorre que, em razão da redução do quadro de empregados da referida empresa devido às numerosas aposentadorias simultâneas, Margarida começou a realizar, por ordem de sua chefia direta, exclusivamente as tarefas afetas a um analista administrativo.

Essa situação vigora há 3 anos, e Margarida mostra insatisfação, porque recebe o salário de técnica, mas exerce a função de analista, que é de maior complexidade. Para se resguardar, montou um dossiê dos vários processos que lhe foram encaminhados para verificação como analista administrativo.

Diante da situação retratada e dos ditames legais, assinale a afirmativa correta.

- (A) Margarida terá direito à diferença salarial, mas não ao reequadramento.
- (B) Margarida terá direito ao reequadramento, mas as diferenças salariais somente serão pagas do trânsito em julgado em diante.
- (C) Margarida não terá direito a qualquer parcela, haja vista o princípio da legalidade.
- (D) Margarida, comprovado o desvio funcional, terá direito à diferença salarial, porém a cargo do gestor que permitiu essa anomalia.
- (E) Margarida terá direito ao reequadramento e às diferenças salariais, em razão da primazia da realidade.

60

Em uma reclamação trabalhista que tramita perante a 90ª Vara do Trabalho de Salvador, a sentença foi prolatada e, enquanto se aguardava a apreciação do recurso interposto pela sociedade empresária, as partes chegaram a um acordo nos seguintes termos: pagamento de R\$ 5.000,00 e transferência de propriedade de um telefone celular corporativo para o reclamante, que tem 22 anos de idade e mantinha-se na posse do bem, pois não o havia devolvido ao empregador quando da ruptura contratual. Desse modo, as partes apresentaram petição conjunta ao juiz, requerendo a homologação do acordo.

Considerada esta narrativa, os termos da CLT e o entendimento consolidado pelo TST, assinale a afirmativa correta.

- (A) O acordo pretendido é impossível, porque a sentença já foi prolatada, e qualquer acordo somente pode ser homologado antes dela, sob pena de violação da coisa julgada.
- (B) O acordo somente poderá ser homologado, se for o caso, após parecer favorável do Ministério Público do Trabalho, pois envolve transferência de propriedade.
- (C) O juiz pode homologar o acordo proposto pelas partes desde que também esteja de acordo com os seus termos.
- (D) A CLT veda a homologação de acordo que envolva objetos, somente sendo possível para a entrega de numerário, daí porque não é possível a transferência de propriedade de celular pela Justiça.
- (E) O magistrado é obrigado a homologar o acordo desejado pelas partes, que poderão impetrar mandado de segurança em caso de negativa do juiz.

61

Priscila presta serviços junto à Prefeitura Municipal de Salvador como auxiliar de serviços gerais terceirizada. Ao ser dispensada, porque o contrato com o ente público foi rompido em abril de 2016, Priscila ajuizou reclamação contra o ex-empregador e o Município de Salvador.

Na sentença, o Juiz do Trabalho determinou que o ex-empregador pagasse as verbas resilitórias, no valor total de R\$ 3.000,00, tendo condenado o Município de forma subsidiária em razão da terceirização havida. Adveio, então, o trânsito em julgado da sentença nesses termos, e Priscila tentou executar o ex-empregador, não tendo sucesso. Assim, requereu que a execução fosse direcionada contra o Município de Salvador e que ele fosse citado para pagar a dívida em 48 horas, sob pena de penhora de seus bens.

Em relação à situação apresentada e à legislação em vigor, assinale a afirmativa correta.

- (A) O pedido está correto porque a questão envolve direito do trabalhador, de caráter alimentar, pelo que a ausência de pagamento importará a penhora de bens do Município.
- (B) Os autos deverão ser enviados à Justiça Estadual, caso o crédito não tenha sido pago pelo ex-empregador, tendo em vista que a Justiça do Trabalho não tem competência para executar ente público.
- (C) O ente público não se submete à execução direta, devendo ser citado para opor embargos, e, ao final, pagará a dívida por requisição de pequeno valor.
- (D) O Juiz do Trabalho deve desafetar o bem público que pretende penhorar para levá-lo à hasta pública, pois, na Justiça do Trabalho, o ente público equipara-se ao particular.
- (E) Os bens públicos são, em regra, impenhoráveis, daí porque é inviável o requerimento de citação do Município para pagamento direto, pois a dívida será paga por precatório.

62

Jerônimo é empregado na sociedade empresária Produtos Baianos Ltda., exercendo a função de entregador.

No ano em que completou 18 anos, Jerônimo se alistou e foi convocado para prestar serviço militar, permanecendo no quartel por 1 ano. Findo esse período, deu a respectiva baixa e retornou ao serviço junto ao empregador.

Diante da situação retratada e dos comandos legais de regência, assinale a afirmativa correta.

- (A) A sociedade empresária ficou isenta de recolher o FGTS, mas está obrigada a receber de volta o empregado, caso ele manifeste o desejo de retornar, em até 90 dias da baixa militar.
- (B) Durante a prestação de serviço militar, Jerônimo recebeu salário do empregador e o soldo da força a que servia, mas perdeu o direito ao FGTS desse período.
- (C) Enquanto servindo às Forças Armadas, Jerônimo teve o contrato interrompido, mas o empregador tem que depositar o FGTS na conta vinculada do empregado.
- (D) A prestação de serviço militar conduziu à extinção do contrato de trabalho, posto que não é possível a prestação concomitante das atividades militar e civil.
- (E) O contrato de trabalho ficou suspenso durante a prestação de serviço militar e o empregador deveria depositar o FGTS nesse período.

63

Pedro é segurança particular de um importante empresário baiano, eleito e recentemente empossado como vereador, e com ele trabalha há 2 anos e 5 meses.

Pedro acompanha o empregador até os seus negócios em Salvador e retorna com ele à sua residência, no mesmo município. Eventualmente Pedro conduz seu patrão para a fazenda de lazer que o empregador possui no interior do estado. Pedro trabalha 4 dias na semanas, com horário fixo de 8 horas diárias.

Diante da situação apresentada e de acordo com os preceitos legais de regência, assinale a opção que define a condição jurídico-trabalhista de Pedro.

- (A) Trabalhador temporário
- (B) Empregado doméstico
- (C) Servidor público
- (D) Trabalhador adventício
- (E) Empregado rural

64

As situações listadas a seguir são da competência da Justiça do Trabalho, à exceção de uma. Assinale-a.

- (A) Ação envolvendo interdito proibitório manejado no bojo de uma greve deflagrada em uma empresa privada.
- (B) Execução da parcela denominada RAT, que é inserida na cota previdenciária.
- (C) Ação na qual um empregado postula do empregador indenização por dano estético oriundo de acidente do trabalho ocorrido em 2016.
- (D) Reclamação de servidor público relativa a vantagens trabalhistas anteriores à instituição do regime jurídico único.
- (E) Ação na qual um arquiteto, que é profissional liberal, cobra honorários tratados e não pagos por seu cliente.

65

Ricardo, um trabalhador rural, ao receber a notificação do lançamento de ofício do Imposto Territorial Rural (ITR) atinente ao seu sítio, resolveu entregar duas galinhas caipiras, uma vaca leiteira, duas cabras e duas sacas de milho que, reunidas, somavam cem quilos do cereal.

Diante dessa situação hipotética, assinale a afirmativa correta.

- (A) A Administração Fiscal deverá considerar totalmente quitado o débito de Ricardo referente ao imóvel, por se tratar de forma de pagamento típica de área rural.
- (B) A Administração Fiscal deverá considerar parcialmente quitado o débito de Ricardo referente ao imóvel, pois a quitação será válida quanto aos bens semoventes, mantendo-se, entretanto, o débito correspondente ao valor das sacas de milho.
- (C) A Administração Fiscal deverá considerar parcialmente quitado o débito referente ao imóvel, pois a quitação será válida quanto ao valor das sacas de milho, mantendo-se, entretanto, o débito correspondente ao valor dos bens semoventes.
- (D) A Administração Fiscal deverá considerar que a obrigação de pagar subsiste para Ricardo, uma vez que a entrega de bens *in natura* não satisfaz obrigação tributária ou extingue o crédito tributário.
- (E) A Administração Fiscal deverá considerar totalmente quitado o débito de Ricardo referente ao imóvel, por se tratar de trabalhador inscrito no cadastro municipal de agricultores da região.

66

Carlos, cidadão residente do Município Sigma, buscando participar da fiscalização dos gastos públicos do município, consulta o órgão de assessoramento jurídico da Prefeitura Municipal a respeito das normas de Processo Legislativo Orçamentário.

Diante de tal contexto, assinale a opção que veicula a única explicação compatível com as diretrizes de Processo Legislativo Orçamentário na Constituição da República/1988.

- (A) À lei que instituir o plano plurianual federal, é vedado estabelecer, de forma regionalizada, as diretrizes, os objetivos e as metas da Administração Pública federal para as despesas de capital e outras delas decorrentes.
- (B) O plano plurianual, as diretrizes orçamentárias e os orçamentos anuais serão estabelecidos por meio de leis de iniciativa do Poder Legislativo.
- (C) O plano plurianual, as diretrizes orçamentárias e os orçamentos anuais serão estabelecidos por meio de leis de iniciativa do Poder Executivo.
- (D) A lei de diretrizes orçamentárias compreenderá as metas e as prioridades da Administração Pública, desconsideradas as despesas de capital para o exercício financeiro subsequente.
- (E) À lei de diretrizes orçamentárias, é vedado dispor sobre as alterações na legislação tributária e estabelecer a política de aplicação das agências financeiras oficiais de fomento.

67

À luz do que estabelece a Lei de Responsabilidade Fiscal (Lei Complementar nº 101/00), analise as afirmativas a seguir.

- I. A expansão de ação governamental que acarrete aumento da despesa será acompanhada de estimativa do impacto orçamentário-financeiro no exercício em que deva entrar em vigor e nos dois subsequentes, além da declaração do ordenador da despesa de que o aumento tem adequação orçamentária e financeira com a lei orçamentária anual e compatibilidade com o plano plurianual e com a lei de diretrizes orçamentárias.
- II. O aperfeiçoamento de ação governamental que acarrete aumento da despesa será acompanhado de estimativa do impacto orçamentário-financeiro no exercício em que deva entrar em vigor e nos três subsequentes, além da declaração do ordenador da despesa de que o aumento tem adequação orçamentária e financeira com a lei orçamentária anual e compatibilidade com o plano plurianual e com a lei de diretrizes orçamentárias.
- III. A manutenção de ação governamental em que não haja aumento da despesa também deverá ser acompanhada de estimativa do impacto orçamentário-financeiro no exercício em que deva entrar em vigor e nos dois subsequentes, além da declaração do ordenador da despesa de que o aumento tem adequação orçamentária e financeira com a lei orçamentária anual e compatibilidade com o plano plurianual e com a lei de diretrizes orçamentárias.

Está correto o que se afirma em

- (A) I, apenas.
- (B) I e II, apenas.
- (C) I e III, apenas.
- (D) II e III, apenas.
- (E) I, II e III.

68

O Município “X” instituiu, por lei, uma taxa, com o objetivo de prevenção e combate a incêndios.

Considerando tal hipótese, à luz da Jurisprudência do Supremo Tribunal Federal, assinale a afirmativa correta.

- (A) A lei municipal é constitucional, pois adstrita aos exatos limites da competência tributária atribuída aos municípios pela CRFB/88.
- (B) A lei municipal é constitucional, pois a saúde financeira do município é um objetivo constitucional.
- (C) A lei municipal é inconstitucional, pois se trata de tributo da competência exclusiva da União.
- (D) A lei municipal é inconstitucional, pois a prevenção e o combate a incêndios compõem a segurança pública, não cabendo ao Município a criação de taxa para tal fim.
- (E) A lei municipal é inconstitucional, pois trata de matéria típica de decreto municipal ou portaria.

69

A Editora WW Ltda. publica livros impressos e livros eletrônicos (*e-books*), além de comercializar aparelhos eletrônicos especializados em leitura de obras digitais (*e-readers*). O sócio-gerente dessa editora, diante da dúvida quanto à incidência de imunidade tributária objetiva sobre os itens por ela publicados e comercializados, consulta Roberto, advogado tributarista, a respeito do tema.

Levando em conta a Constituição da República e a jurisprudência consolidada do Supremo Tribunal Federal, assinale a opção que apresenta a resposta de Roberto.

- (A) A imunidade objetiva prevista na CRFB/88 abarca livros impressos e livros eletrônicos, mas não alcança aparelhos eletrônicos especializados em leitura de obras digitais.
- (B) A imunidade objetiva prevista na CRFB/88 abarca apenas e tão somente livros impressos.
- (C) A imunidade objetiva prevista na CRFB/88 abrange livros impressos, livros eletrônicos e aparelhos eletrônicos especializados em leitura de obras digitais.
- (D) A imunidade objetiva prevista na CRFB/88 abrange livros eletrônicos e aparelhos eletrônicos especializados em leitura de obras digitais. Quanto aos livros impressos, a hipótese é de mera isenção legal.
- (E) A imunidade subjetiva prevista na CRFB/88 abrange livros impressos, livros eletrônicos e aparelhos eletrônicos especializados em leitura de obras digitais.

70

O Art. 165, § 8º, da CRFB/88 estabelece que: *“A lei orçamentária não conterà dispositivo estranho à previsão da receita e à fixação da despesa, não se incluindo na proibição a autorização para abertura de créditos suplementares e contratação de operações de crédito, ainda que por antecipação de receita, nos termos da lei”*.

Assinale a opção que indica o princípio orçamentário descrito no texto acima.

- (A) Princípio da Não Afetação de Receitas
- (B) Princípio da Equidade Regional
- (C) Princípio da Exclusividade Orçamentária
- (D) Princípio do Orçamento Participativo
- (E) Princípio da Seletividade

Realização

