



# PMS – BA 2019

Prefeitura Municipal do Salvador - Estado da Bahia

**MANHÃ**

## AGENTE DE TRÂNSITO E TRANSPORTE

Tipo 3 – AMARELA



### SUA PROVA

- As questões objetivas têm cinco alternativas de resposta (A, B, C, D, E) e somente uma delas está correta;
- Além deste caderno de prova, contendo setenta questões objetivas, você receberá do fiscal de sala:
  - a folha de respostas das questões objetivas



### TEMPO

- Você dispõe de **4 horas** para a realização da prova, já incluído o tempo para a marcação da folha de respostas;
- **3 horas** após o início da prova é possível retirar-se da sala, sem levar o caderno de prova;
- **30 minutos** antes do término do período de prova é possível retirar-se da sala **levando o caderno de provas**.



### NÃO SERÁ PERMITIDO

- Qualquer tipo de comunicação entre os candidatos durante a aplicação da prova;
- Anotar informações relativas às respostas em qualquer outro meio que não seja o caderno de prova;
- Levantar da cadeira sem autorização do fiscal de sala;
- Usar o sanitário ao término da prova, após deixar a sala.



### INFORMAÇÕES GERAIS

- Verifique se seu caderno está completo, sem repetição de questões ou falhas. Caso contrário, notifique imediatamente o fiscal da sala, para que sejam tomadas as devidas providências;
- Confira seus dados pessoais, especialmente nome, número de inscrição e documento de identidade e leia atentamente as instruções para preencher a folha de respostas;
- Use somente caneta esferográfica, fabricada em material transparente, com tinta preta ou azul;
- Assine seu nome apenas no(s) espaço(s) reservado(s);
- Confira seu cargo, cor e tipo do caderno de provas. Caso tenha recebido caderno de cargo ou cor ou tipo **diferente** do impresso em sua folha de respostas, o fiscal deve ser **obrigatoriamente** informado para o devido registro na ata da sala;
- Reserve tempo suficiente para o preenchimento da sua folha de respostas. O preenchimento é de sua responsabilidade e não será permitida a troca da folha de respostas em caso de erro;
- Para fins de avaliação, serão levadas em consideração apenas as marcações realizadas na folha de respostas;
- A FGV coletará as impressões digitais dos candidatos na lista de presença;
- Os candidatos serão submetidos ao sistema de detecção de metais quando do ingresso e da saída de sanitários durante a realização das provas;
- **Boa sorte!**



## MÓDULO I

### Língua Portuguesa

1

O jornal *O Globo*, em 19/10/2018, publicou a seguinte manchete:

#### Mudanças no IR dariam alívio ao contribuinte

Sobre os componentes dessa manchete, assinale a afirmativa **incorreta**.

- (A) A abreviatura IR corresponde a Imposto sobre a Renda.
- (B) A forma verbal “dariam” mostra que se trata de uma possibilidade, e não de um fato.
- (C) A expressão “dar alívio” informa que as mudanças significam menos gastos.
- (D) A forma “dariam alívio” equivale a “aliviarão”.
- (E) O termo “contribuinte” significa todo aquele que paga algum imposto.

2

Assinale a opção que indica a frase que **não** mostra caráter opinativo.

- (A) Penso que o Vitória deve escapar do rebaixamento.
- (B) Todos devem trabalhar mais, creio eu.
- (C) Vê-se diariamente nos jornais o perigo de viajar à noite.
- (D) A meu ver, o tempo vai mudar no final de semana.
- (E) Há muitos feriados no Brasil, é a minha opinião.

3

“O hábito de ler é sem dúvida um dos maiores presentes que uma criança pode receber. A leitura abre inúmeras portas para o desenvolvimento do indivíduo e seus benefícios intelectuais e de apoio ao aprendizado escolar são proporcionais ao prazer de desbravar novos mundos pela imaginação.”

Ricardo Viveiros, in *Oficina de Comunicação*.

As opções a seguir apresentam alguns benefícios do ato de ler, **à exceção de uma**. Assinale-a.

- (A) Propicia desenvolvimento.
- (B) Traz benefícios intelectuais.
- (C) Melhora o aprendizado escolar.
- (D) Traz prazer como o de receber um presente.
- (E) Exercita a imaginação.

4

“Antigamente o homem tinha a impressão de que os recursos da natureza eram infinitos. O caçador de mamutes via muitos deles e só conseguia capturar um ou outro, **entendendo assim** que seu número era infundável. A noção de que a natureza é infinita mudou a partir do momento em que o homem, dominando a técnica, fabricou máquinas capazes de, em poucos dias, destruir uma floresta; ou, indo a extremos, acabar com o mundo em minutos caso resolva experimentar algumas de suas bombas atômicas.”

Júlio Chiavenato, in *O massacre da Natureza*.

Assinale a opção em que a forma “entendendo assim” fica corretamente substituída, mantendo seu sentido original.

- (A) quando entendia
- (B) caso entendesse
- (C) à proporção que entendia
- (D) pois entendia
- (E) apesar de entender

5

“Ler é essencial. Através da leitura, testamos os nossos próprios valores e experiências com as dos outros. No final de cada livro, ficamos enriquecidos com novas experiências, novas ideias, novas pessoas. Eventualmente, ficaremos a conhecer melhor o mundo e um pouco melhor de nós próprios”.

site *Universo de Literacias*.

Segundo o texto, a leitura permite

- (A) conhecer-nos um pouco melhor.
- (B) aprofundar nossos relacionamentos pessoais.
- (C) visitar conhecimentos já adquiridos.
- (D) comparar o passado com o presente.
- (E) produzir ideias revolucionárias.

6

“A civilização do século XX tornou-se altamente dependente do mais nobre dos combustíveis, porque ele é extremamente conveniente: é líquido, podendo pois ser transportado facilmente nos mais variados recipientes e em oleodutos, e, além disso, é o combustível mais rico em calorias. Assim, a humanidade se acostumou com o ‘creme’ dos combustíveis e o desperdiçou, como quem desperdiça um bem ganho sem qualquer esforço. Mas isso vai acabar, o petróleo é uma herança que recebemos do passado e que fatalmente vai terminar.”

José Goldemberg, *Quatro Rodas*. São Paulo, maio de 2013.

Sobre o petróleo, assinale a afirmativa **incorreta**.

- (A) Trata-se de combustível caloricamente superior.
- (B) Tem existência fatalmente não eterna.
- (C) Possui nobreza por ter causado dependência.
- (D) Traz facilidade de transporte.
- (E) Pode ser embalado em recipientes diversos.

7

Um texto sobre a Aids apresentava a seguinte conclusão:

*“Apesar de todos os avanços, a Aids continua sendo uma doença grave, não tem cura, e só no Brasil mata 11 mil pessoas por ano. Quem hoje a adquire vai precisar inevitavelmente tomar remédios pelo resto da vida e conviver com seus efeitos colaterais.”*

Sobre a estruturação desse parágrafo, assinale a afirmativa **incorreta**.

- (A) “Apesar de” equivale a “embora”.
- (B) O termo “só” poderia vir após “Brasil”, sem modificação de sentido.
- (C) O termo “por ano” equivale a “anualmente”.
- (D) Em “Quem hoje a adquire”, o termo “a” se refere à Aids.
- (E) Nos segmentos “por ano” e “pelo resto da vida” a preposição “por” mostra sentido de tempo.

8

No prefácio de um livro de Jorge Amado, Vinícius de Moraes escreveu o seguinte:

*“Em dois textos simples, Jorge Amado acaba de escrever o que para mim é o melhor romance e a melhor novela da literatura brasileira.”*

Esse texto deve ser considerado

- (A) uma resenha de duas obras de Jorge Amado.
- (B) um texto publicitário sobre dois livros de Jorge Amado.
- (C) uma informação sobre o lançamento de novas obras literárias
- (D) uma argumentação em defesa de Jorge Amado.
- (E) um depoimento opinativo sobre duas obras de Jorge Amado.

9



Dê força para quem já está fazendo!

Tem uma galera que reclama, tem outra que faz, tem aquela que ajuda a fazer. Qual delas é você?

O cartaz e os dizeres acima pretendem

- (A) condenar os que só reclamam e nada fazem.
- (B) motivar o trabalho solidário.
- (C) indicar caminhos para a colaboração.
- (D) dar exemplos para a comunidade.
- (E) incentivar campanhas de solidariedade.

10

“A violência, em seus mais variados contornos, é um fenômeno \_\_\_\_\_ na constituição da sociedade brasileira. A escravidão (primeiro com os índios e depois, e especialmente, com a mão de obra africana), a colonização mercantilista, o coronelismo, as oligarquias antes e depois da independência, somados a um Estado caracterizado pelo autoritarismo burocrático, contribuíram enormemente para o aumento da violência que atravessa a história do Brasil”.

Orson Camargo, *Violência no Brasil, outro olhar*.

Assinale a opção que indica o adjetivo que preenche adequadamente a lacuna do texto.

- (A) econômico
- (B) político
- (C) histórico
- (D) social
- (E) educacional

11

*“Ler é essencial. Através da leitura, testamos os nossos próprios valores e experiências com as dos outros. No final de cada livro, ficamos enriquecidos com novas experiências, novas ideias, novas pessoas. Eventualmente, ficaremos a conhecer melhor o mundo e um pouco melhor de nós próprios.”*

site Universo de Literacias.

O termo “No final de cada livro” equivale a

- (A) quando chegamos ao final de cada livro.
- (B) após a leitura de cada livro.
- (C) na conclusão de cada livro.
- (D) ao chegarmos ao final de uma narrativa.
- (E) se chegamos ao fim de uma história.

12

*“A civilização do século XX tornou-se altamente dependente do mais nobre dos combustíveis, porque ele é extremamente conveniente: é líquido, podendo pois ser transportado facilmente nos mais variados recipientes e em oleodutos, e, além disso, é o combustível mais rico em calorias. Assim, a humanidade se acostumou com o ‘creme’ dos combustíveis e o desperdiçou, como quem desperdiça um bem ganho sem qualquer esforço. Mas isso vai acabar, o petróleo é uma herança que recebemos do passado e que fatalmente vai terminar.”*

José Goldemberg, *Quatro Rodas*, São Paulo, maio de 2013.

Todos os termos sublinhados no texto acima se referem a um termo anterior, **à exceção de um**. Assinale-o.

- (A) do mais nobre dos combustíveis.
- (B) disso.
- (C) o.
- (D) isso.
- (E) que.

**13**

Um jornal carioca publicou a seguinte *manchete* nas páginas esportivas:

**Vasco obtém empréstimo para acertar pagamentos**

Dessa *manchete* deduz-se que

- (A) os pagamentos do Vasco estavam atrasados.
- (B) haviam ocorrido erros nos pagamentos de salários.
- (C) o Vasco teve dificuldades para obter empréstimo.
- (D) os salários pagos pelo Vasco precisavam de aumento.
- (E) os clubes de futebol passam por dificuldades financeiras.

**14**

“As enchentes têm-se repetido de forma devastadora nesse ano de 2015 em São Paulo. Vidas, patrimônios, a saúde e o cotidiano de milhões de cidadãos são, a cada chuva de verão, consumidos em águas pútridas e lamacentas de forma trágica”.

Uol, 28/03/2015.

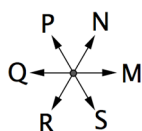
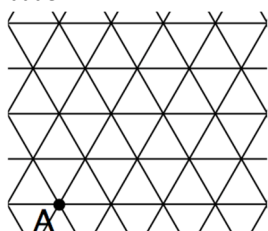
A forma verbal “têm-se repetido” indica que

- (A) as enchentes em São Paulo foram devastadoras por todo o ano de 2015.
- (B) os prejuízos causados pelas enchentes têm sido imensos.
- (C) ocorreram muitas mortes nas enchentes paulistanas.
- (D) nos últimos anos, em São Paulo, as enchentes têm-se repetido.
- (E) as enchentes em São Paulo têm modificado sua intensidade.

**Raciocínio Lógico**

**15**

A figura abaixo mostra, à esquerda, uma malha triangular onde cada triângulo tem lado de 1 unidade de comprimento e onde um ponto A está assinalado. À direita, as letras M, N, P, Q, R e S mostram direções e sentido de 6 movimentos possíveis, cada um de 1 unidade.



A partir do ponto A foi feita a seguinte seqüência de movimentos: MNNMPQQ, chegando-se ao ponto B.

A seqüência de movimentos que, partindo de B chega-se ao ponto A, é

- (A) RRR.
- (B) RSR.
- (C) SSS.
- (D) SSR.
- (E) RSS.

**16**

Uma formiga está situada sobre o ponto A da reta horizontal representada a seguir.

Em seguida, em movimentos sucessivos, a formiga anda sobre essa reta: 10 m para a direita, 16 m para a esquerda, 19 m para a direita e 15 m para a esquerda, chegando ao ponto B.

É correto concluir que

- (A) B está 2m à esquerda de A.
- (B) B está 2m à direita de A.
- (C) B está 4m à esquerda de A.
- (D) B está 4m à direita de A.
- (E) B coincide com A.

**17**

Em certa cidade, a distância que se deve percorrer de automóvel para ir de um ponto X a um ponto Y é, em geral, diferente da distância percorrida na volta de Y para X, pois os caminhos são diferentes.

Nessa cidade, uma empresa possui três sedes, situadas nos lugares A, B e C, e as distâncias, em quilômetros, para ir de uma sede até outra são dadas pela matriz abaixo.

Por exemplo, para ir de A até C a distância é de 7 km.

	A	B	C
A	0	6	7
B	5	0	8
C	9	10	0

Um motorista da empresa saiu do ponto A e foi ao ponto B. Em seguida, foi ao ponto C e depois retornou ao ponto de partida.

O número total de quilômetros que ele percorreu foi

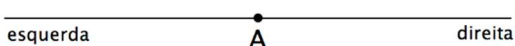
- (A) 21.
- (B) 22.
- (C) 23.
- (D) 24.
- (E) 25.

**18**

Uma empresa possui duas fábricas. Cada fábrica tem 1 diretor, cada diretor tem 2 gerentes, cada gerente tem 3 coordenadores e cada coordenador tem 4 secretários. Certo dia, o presidente da empresa chamou para uma reunião com ele, todos os diretores, gerentes, coordenadores e secretários, e todos compareceram.

O número de pessoas que havia nessa reunião é

- (A) 34.
- (B) 49.
- (C) 50.
- (D) 66.
- (E) 67.



**19**

Paulo e Ricardo são irmãos. Paulo faz aniversário no dia 01 de maio e Roberto no dia 01 de setembro. Em certo ano, o aniversário de Paulo caiu em um domingo.

Nesse ano, o aniversário de Ricardo caiu em

- (A) uma 3ª feira.
- (B) uma 4ª feira.
- (C) uma 5ª feira.
- (D) uma 6ª feira.
- (E) um sábado.

**20**

Em uma fila de 8 soldados, Pedro é o 5º dessa fila. O sargento modificou a fila colocando, entre cada dois soldados consecutivos, um novo soldado. Essa segunda fila foi ainda modificada, pois o sargento colocou, entre cada dois soldados consecutivos, um novo soldado.

A posição de Pedro na terceira fila é

- (A) 14º.
- (B) 15º.
- (C) 16º.
- (D) 17º.
- (E) 18º.

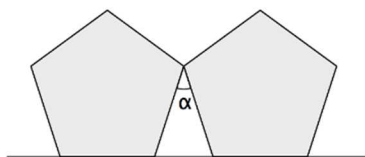
**21**

Em uma obra há várias tábuas, todas iguais. Cada tábua pesa 6 kg mais 1/6 de tábua. O peso de 20 tábuas é

- (A) 120 kg.
- (B) 132 kg.
- (C) 140 kg.
- (D) 144 kg.
- (E) 150 kg.

**22**

A figura a seguir mostra dois polígonos regulares iguais, com um vértice em comum e apoiados em uma mesma reta.



Sabe-se que a soma dos ângulos internos de um polígono de n lados é dada por  $S = 180^\circ(n - 2)$ .

A medida do ângulo assinalado com a letra  $\alpha$  é

- (A) 32°.
- (B) 36°.
- (C) 40°.
- (D) 48°.
- (E) 72°.

**23**

Valter possui seis gatos em sua casa. Sabe-se que não é verdade que todos sejam pretos.

É correto concluir que, dos gatos de Valter,

- (A) nenhum é de cor preta.
- (B) todos são malhados.
- (C) pelo menos um é branco.
- (D) a maioria não é de cor preta.
- (E) pelo menos um não é de cor preta.

**24**

As amigas Flávia, Gilda e Hilda, saíram para fazer um lanche. A primeira tinha 35 reais, a segunda 45 reais e a terceira, 64 reais. Como Hilda tinha mais dinheiro, ela deu a cada uma das amigas alguma quantia de forma que ficassem, as três, com quantias iguais.

É correto concluir que

- (A) Flávia ganhou mais 10 reais do que Gilda.
- (B) Hilda ficou com menos 14 reais.
- (C) Flávia ganhou 12 reais.
- (D) Hilda perdeu a terça parte do que tinha.
- (E) Gilda ganhou 4 reais.

**Noções de Informática**

**25**

Os alunos de uma escola fazem duas provas durante o período letivo, P1 e P2, e, serão aprovados, se a média dessas notas for superior a cinco.

A planilha a seguir foi construída no MS Excel 2016 BR para determinar automaticamente o resultado de cada aluno.

	A	B	C	D
1	Nome	P1	P2	
2	Eduardo	4,0	0,0	REPROVADO
3	Ricardo	9,0	9,5	APROVADO
4	Anna	7,0	6,5	APROVADO

Para isto, uma fórmula foi digitada na célula D2, copiada (Ctrl + C) e colada (Ctrl + V) nas demais células da mesma coluna D.

Assinale a opção que indica a fórmula digitada em D2.

- (A) =SE (B2+C2)/2>5 "APROVADO" SENÃO "REPROVADO"
- (B) =MÉDIA(B2:C2)>5
- (C) =ÍNDICE({"APROVADO";"REPROVADO"};(B2+C2)/2>5)
- (D) =SE((B2+C2)/2>5;"APROVADO";"REPROVADO")
- (E) =SE B2+C2/2>5 "APROVADO" SENÃO "REPROVADO"

**26**

No Explorador de Arquivos (Windows Explorer) do Windows 10 BR, a opção para exibir a extensão dos arquivos está disponível nas opções de pasta acessíveis por meio do menu

- (A) Arquivo.
- (B) Compartilhar.
- (C) Exibir.
- (D) Gerenciar.
- (E) Início.

**27**

Considere as unidades ópticas de 120 mm (120 mm é o tamanho padrão ou mais comum) listadas a seguir.

- I. Blu-ray BD-RE.
- II. CD-ROM.
- III. DVD-RAM.

Com relação à capacidade de armazenamento, da maior para a menor, os dispositivos são, respectivamente,

- (A) I, II e III.
- (B) I, III e II.
- (C) II, I e III.
- (D) II, III e I.
- (E) III, II e I.






**28**

Assinale a opção que indica o aplicativo do MS Office utilizado para ler ou escrever e-mails.

- (A) Access.
- (B) Excel.
- (C) Outlook.
- (D) PowerPoint.
- (E) Word.

**29**

Assinale a opção que indica, no MS-Windows 10, a tecla utilizada para abrir (mostrar) o menu Iniciar.

- (A) 
- (B) 
- (C) 
- (D) 
- (E) 

**30**

No Explorador de Arquivos (Windows Explorer) do Windows 10 BR, para remover um arquivo previamente selecionado sem enviá-lo para a lixeira, deve ser usado

- (A) Alt+Delete.
- (B) Alt+Shift+Delete.
- (C) Ctrl+Delete.
- (D) Ctrl+Shift+Delete.
- (E) Shift+Delete.

**31**

Assinale a opção que indica o dispositivo semelhante a uma impressora que pode ser utilizado para gerar imagens em folhas de papel de tamanhos grandes.

- (A) Blu-ray.
- (B) DVD.
- (C) HDD.
- (D) Plotter.
- (E) Scanner.

**32**

O texto a seguir foi criado no MS Word 2016 BR.

No menu Inserir, as galerias incluem itens que são projetados para corresponder à aparência geral do documento. Você pode usar essas galerias para inserir tabelas, cabeçalhos, rodapés, listas, folhas de rosto e outros blocos de construção do documento. Quando você cria imagens, gráficos ou diagramas, esses elementos também são coordenados com a aparência atual do documento. Você pode alterar facilmente a formatação do texto selecionado no documento escolhendo uma aparência para o texto selecionado na galeria Estilos Rápidos, na guia Página Inicial. Você também pode formatar texto diretamente usando os outros controles na guia Página Inicial. A maioria dos controles oferece uma opção tema atual ou usar um formato que você pode especificar.

Nome	P1	P2	Situação
Eduardo	4	0	REPROVADO
Ricardo	9	9,5	APROVADO
Anna	7	6,5	APROVADO

No menu Inserir, as galerias incluem itens que são projetados para corresponder à aparência geral do documento. Você pode usar essas galerias para inserir tabelas, cabeçalhos, rodapés, listas, folhas de rosto e outros blocos de construção do documento. Quando você cria imagens, gráficos ou diagramas, esses elementos também são coordenados com a aparência atual do documento. Você pode alterar facilmente a formatação do texto selecionado no documento escolhendo uma aparência para o texto selecionado na galeria Estilos Rápidos, na guia Página Inicial. Você também pode formatar texto diretamente usando os outros controles na guia Página Inicial. A maioria dos controles oferece uma opção tema atual ou usar um formato que você pode especificar.

O texto disposto ao redor da tabela foi obtido

- (A) formatando-se o texto em colunas.
- (B) inserindo-se no documento quebras de seções.
- (C) configurando-se o alinhamento do texto.
- (D) utilizando-se o AutoAjuste de Conteúdo da tabela.
- (E) configurando-se as propriedades da tabela.

## Legislação Institucional

**33**

Diversas associações cujo objeto social era a preservação do regular desenvolvimento urbano do Município de Salvador, desenvolveram campanha com o objetivo de estabelecer modificações no Plano Diretor da cidade, a partir de projeto de lei de iniciativa do órgão competente.

Ao consultarem seus advogados a respeito dos obstáculos jurídicos a serem enfrentados, foram informadas corretamente de que o Plano Diretor do Município de Salvador

- (A) não pode ser alterado após a sua aprovação.
- (B) somente pode ser alterado 8 anos após a sua aprovação.
- (C) pode ser alterado antes da revisão a ser realizada 8 anos após a sua aprovação.
- (D) somente pode ser alterado antes de transcorridos 8 anos desde a sua aprovação por iniciativa de 2/3 dos vereadores.
- (E) somente pode ser alterado antes de transcorridos 10 anos desde a sua aprovação por iniciativa de 1/3 dos vereadores.

**34**

A jornada diária de trabalho de Pedro, servidor público do Município de Salvador, foi fixada em 8 horas pelo respectivo Plano de Carreira e Vencimentos. Em determinado momento, Pedro foi comunicado por sua chefia imediata que, naquele dia, seria necessária a prorrogação da duração do trabalho normal por motivo de força maior.

Considerando que Pedro não desempenhava jornada especial e muito menos trabalhava em regime de turnos, é correto afirmar, à luz da Lei Complementar nº 1/1991, que o ato da chefia imediata é

- (A) lícito, desde que a prorrogação da jornada de trabalho do dia não ultrapasse 12 horas.
- (B) ilícito, pois a jornada de trabalho de Pedro não poderia ser prorrogada.
- (C) lícito, desde que a prorrogação da jornada de trabalho não ultrapasse 16 horas e seja assegurada folga no dia posterior.
- (D) Ilícito, pois a jornada de trabalho somente pode ser prorrogada por força de dissídio coletivo.
- (E) lícito, desde que a prorrogação da jornada de trabalho do dia não ultrapasse 10 horas.

**35**

O Vereador Alfa solicitou que sua assessoria se manifestasse sobre a possibilidade de ser criada a universidade municipal de Salvador.

À luz da Lei Orgânica do Município de Salvador, a assessoria respondeu corretamente que

- (A) era vedada a criação de universidade pelo Município de Salvador.
- (B) a atuação do Município de Salvador no ensino superior pressupunha o atendimento de 90% das necessidades dos graus anteriores.
- (C) o Município de Salvador somente poderia criar uma universidade caso adotasse o modelo de cogestão com o Estado da Bahia.
- (D) O Município de Salvador poderia criar livremente uma universidade, considerando a inexistência de qualquer limitador em sua lei orgânica.
- (E) o Município de Salvador somente poderia criar uma universidade caso adotasse o modelo de cogestão com a iniciativa privada.

**36**

Antônia, após regular concurso público, passou a desempenhar as funções afetas a determinado cargo de provimento efetivo no Município de Salvador. Após alguns meses ocupando o cargo, consultou um advogado sobre a aquisição de estabilidade.

Considerando os termos da Lei Complementar nº 1/1991 do Município de Salvador, o advogado respondeu corretamente que Antônia

- (A) tornara-se estável ao iniciar o exercício da função.
- (B) tornar-se-á estável após 3 anos, período no qual estará em estágio probatório.
- (C) tornar-se-á estável após 2 anos, período no qual estará em estágio probatório.
- (D) tornar-se-á estável após 1 anos, período no qual estará em estágio probatório.
- (E) não irá adquirir estabilidade enquanto não for aprovada no exame de estabilidade previsto em lei.

**37**

Joana, servidora pública estável do Município de Salvador, foi posta em disponibilidade. Após 8 meses, recebeu um comunicado de que iria ocupar um cargo de atribuições e vencimento compatíveis com o exercido anteriormente.

À luz da sistemática estabelecida pela Lei Complementar nº 1/1991 do Município de Salvador, é correto afirmar que o retorno de Joana é denominado de

- (A) reintegração.
- (B) aproveitamento.
- (C) readaptação.
- (D) progressão funcional.
- (E) redistribuição funcional.

**38**

O Prefeito do Município de Salvador, após amplo levantamento realizado pela Secretaria competente, decidiu vender determinados bens imóveis municipais a particulares, considerando a evidente existência de interesse público nessa operação.

À luz da sistemática estabelecida na Lei Orgânica do Município de Salvador, é correto afirmar que essa venda

- (A) pode ser livremente efetivada pelo Prefeito Municipal, independente de autorização legislativa.
- (B) independe de autorização legislativa nos lotes de até 300 m<sup>2</sup>, utilizados em qualquer culto religioso.
- (C) só pode ser realizada pelo Prefeito Municipal, qualquer que seja a dimensão do bem, mediante autorização legislativa.
- (D) independe de autorização legislativa nos lotes de até 400 m<sup>2</sup>, lindeiro a obra pública, observado o preço mínimo da avaliação.
- (E) independe de autorização legislativa nos lotes de até 120 m<sup>2</sup>, para pessoa de baixa renda, observado o preço mínimo da avaliação.

**39**

Antônio foi aprovado em concurso público para o provimento de cargo efetivo no Município de Salvador, concurso este devidamente homologado. Considerando os termos do Regime Jurídico Único dos Servidores Públicos do Município de Salvador, é correto afirmar que, anteriormente ao início do exercício funcional, Antônio deve passar pelas seguintes fases:

- (A) inspeção médica oficial, apresentação da documentação necessária à nomeação, nomeação e posse.
- (B) apresentação da documentação necessária à nomeação, inspeção médica caso tenha deficiência, nomeação e posse.
- (C) inspeção médica oficial, apresentação da documentação necessária à nomeação, posse e nomeação.
- (D) apresentação da documentação necessária à nomeação, inspeção médica caso tenha deficiência, nomeação e posse.
- (E) apresentação da documentação necessária à nomeação, posse, nomeação e inspeção médica caso tenha deficiência.



**40**

Ao tomar conhecimento de que parte da população estava insatisfeito com o modo como certos assuntos de interesse do Município de Salvador estavam disciplinados em sua lei orgânica, o Vereador Alfa solicitou que sua assessoria analisasse quem estava legitimado a propor a sua emenda.

A assessoria respondeu corretamente que a Lei Orgânica do Município de Salvador poderia ser emendada mediante proposta apresentada

- (A) exclusivamente pelo Chefe do Poder Executivo.
- (B) por qualquer vereador.
- (C) por munícipes, que representem no mínimo 5% dos eleitores.
- (D) por dois terços dos vereadores.
- (E) por Comissão da Câmara Municipal.

## MÓDULO II

### Conhecimentos Específicos

**41**

Bernardo encontrava-se no trânsito durante as chuvas torrenciais ocorridas em Salvador. No momento em que transitava pela avenida litorânea, houve forte deslizamento de terra, que atingiu quatro carros, dentre os quais estava o seu. Todos os veículos foram arrastados para o mar e, posteriormente, localizados pelo Corpo de Bombeiros. O evento resultou na morte dos motoristas de três carros. O corpo de Bernardo, contudo, não foi encontrado, permanecendo desaparecido mesmo após o encerramento das buscas.

Diante desta situação, assinale a afirmativa correta.

- (A) Sem a localização do corpo de Bernardo, não há o fim de sua personalidade, que apenas se encerra com a prova da morte natural.
- (B) É possível declarar a morte presumida de Bernardo antes do fim das buscas.
- (C) A declaração de morte de Bernardo apenas poderá se realizar mediante decretação de ausência.
- (D) Diante do caso apresentado, é possível reconhecer a morte natural de Bernardo.
- (E) Pode ser declarada a morte presumida de Bernardo sem decreto judicial de ausência, ante a alta probabilidade do falecimento.

**42**

Márcia encontra-se grávida de oito meses. Diante dos exames feitos e da constatação de que seu filho pertence ao sexo masculino, escolheu chamá-lo de Miguel.

Segundo o que diz o Código Civil quanto ao nascituro, assinale a afirmativa correta.

- (A) A lei resguarda os direitos de Miguel, ainda que venha a falecer durante a gravidez.
- (B) A personalidade civil de Miguel começa desde sua concepção.
- (C) A personalidade civil de Miguel se inicia desde a concepção, a partir de quando a lei também resguarda seus direitos.
- (D) A personalidade civil de Miguel se inicia a partir do nascimento com vida, mas a lei resguarda seus direitos desde a concepção.
- (E) A personalidade civil de Miguel começa apenas a partir do nascimento com vida, a partir de quando também são resguardados seus direitos.

**43**

Rodrigo e Beth, casados, são os pais de Pedro, que tem dezesseis anos, e moram em Salvador. Ainda com esta idade, Pedro obteve boa nota no Exame Nacional do Ensino Médio (ENEM) e foi admitido na Universidade Federal de Minas Gerais. Por essa razão, Rodrigo e Beth pretendem proporcionar ao filho maior liberdade na prática dos atos da vida civil.

Diante da situação apresentada, é possível afirmar que, segundo o Direito brasileiro,

- (A) Pedro é relativamente incapaz até completar os dezoito anos, inexistindo outra possibilidade de adquirir a plena capacidade civil que não a maioridade.
- (B) Rodrigo e Beth poderão conceder a Pedro a emancipação voluntária mediante instrumento público, adquirindo este último a plena capacidade civil.
- (C) a concessão da emancipação voluntária por Rodrigo e Beth dependerá de autorização judicial, mesmo que não haja qualquer discordância entre eles.
- (D) a única hipótese presente na lei que permite a Pedro emancipação e aquisição da plena capacidade será seu eventual casamento.
- (E) mesmo na hipótese de emancipação, Pedro continuará a ser relativamente incapaz.

**44**

Marcos, 29 anos, apresenta um quadro de bipolaridade controlado. Nessa situação, o Direito lhe confere

- (A) plena capacidade.
- (B) relativa incapacidade, sendo necessária sua assistência.
- (C) absoluta incapacidade, sendo necessária sua representação.
- (D) plena capacidade apenas para atos patrimoniais.
- (E) incapacidade adstrita a atos que afetem o seu patrimônio.

**45**

Heleno, que tem 13 anos, pretende comprar um *videogame* no valor de R\$ 3.000,00. Para isto, celebra contrato de compra e venda com Jorge, que tem 18 anos.

Sobre esta situação, quanto a Heleno, é correto afirmar que

- (A) a contratação é viável, em razão de sua plena capacidade civil.
- (B) a celebração do contrato apenas seria possível caso ele estivesse assistido por seus pais.
- (C) ele não pode celebrar este contrato, em razão de sua incapacidade absoluta.
- (D) ainda que representado por seus pais, ele não pode celebrar este contrato.
- (E) após os dezesseis anos, ele pode celebrar contratos, independentemente da intervenção de seus pais.

**46**

O Art. 7º, inciso IX, da Lei Orgânica Municipal de Salvador estabelece que compete ao Município dispor sobre o uso de logradouros públicos, especialmente no perímetro urbano. Assim sendo, o Prefeito Municipal editou o Decreto nº 27.862/16, aprovando o regulamento do Serviço de Transporte de Escolares (SETES).

O decreto publicado pelo Chefe do Executivo local, do ponto de vista formal,

- (A) viola o princípio da separação dos Poderes, por conter normas gerais e abstratas, que deveriam ser editadas pelo Poder Legislativo.
- (B) viola o princípio da inafastabilidade do controle jurisdicional, eis que, por conter normas gerais e abstratas, deveria ser previamente ratificado Poder Judiciário.
- (C) não viola qualquer princípio constitucional, porque decorre do poder hierárquico, que o autoriza a editar atos legislativos em substituição à Câmara Municipal.
- (D) não viola o princípio da separação dos Poderes, porque decorre do poder regulamentar, que o autoriza a editar atos gerais e abstratos para complementar a lei e permitir a sua efetiva aplicação.
- (E) não viola o princípio da inafastabilidade do controle jurisdicional, porque decorre do poder disciplinar, que o autoriza a editar atos concretos e específicos para disciplinar a vida em sociedade.

**47**

A atuação de um Agente de Trânsito e Transporte do Município de Salvador é hipótese de regular exercício do *poder de polícia* quando

- (A) exerce a fiscalização garantindo o cumprimento das normas voltadas a obras e eventos que interfiram na circulação normal de veículos e pedestres, bem como sobre obstáculos ou elementos que gerem desordem na sinalização, atuando e aplicando medidas administrativas por infrações ocorridas.
- (B) realiza investigação criminal para elucidar a autoria de crime de homicídio, mediante a promoção de diligências de apuração, como vistoria no local do delito, colheita de depoimentos e apreensão de instrumentos e bens utilizados na prática do crime.
- (C) edita ordem de serviço contendo rotinas administrativas tendentes a regulamentar as funções a serem exercidas por cada servidor lotado no órgão, incluindo aquelas relativas à investigação de eventuais atos que configurem, em tese, falta funcional.
- (D) preside comissão permanente de apuração de falta funcional em processo administrativo disciplinar, podendo realizar interrogatório do investigado, tomar depoimento de testemunhas, juntar documentos e realizar acareação em caso de contradição.
- (E) participa de comissão tendente a estudar e formular sugestão de políticas públicas de fomento a campanhas educativas de prevenção de acidentes e outros elementos relacionados à segurança viária, cuja conclusão será encaminhada ao Prefeito.

**48**

João, agente de trânsito e transporte do Município de Salvador, realizava *blitz* a fim de verificar a regularidade dos sistemas de trânsito e de transporte.

Por coincidência, Mário, seu vizinho e antigo desafeto que conduzia um caminhão na área urbana, foi parado na *blitz* para ser fiscalizado. Ainda que não tenha sido encontrada qualquer irregularidade no veículo inspecionado, João lavrou auto de infração em desfavor de Mário, exclusivamente por retaliação.

No caso em tela, João violou, frontal e diretamente, princípios constitucionais da Administração Pública. Assinale a opção que os indica.

- (A) Legalidade e pessoalidade.
- (B) Segurança jurídica e autotutela.
- (C) Razoabilidade e publicidade.
- (D) Moralidade e impessoalidade.
- (E) Isonomia e competitividade.

**49**

Autoridade competente do Município de Salvador, com escopo de conferir maior fluidez no tráfego de veículos no centro da cidade, decidiu que a Avenida X, a partir do mês seguinte, não seria mais uma via de mão dupla, passando a funcionar em um único sentido.

Semanas após a alteração, verificado o aumento de engarrafamento na região, o Município concluiu estudo sobre mobilidade urbana, que indicou a conveniência de aquela avenida voltar a ser via de mão dupla, o que foi feito pela mesma autoridade, que revogou seu ato anterior.

Com base no caso em tela, verifica-se que o princípio administrativo que se traduz no poder da Administração Pública de ter o controle sobre seus atos, inclusive podendo revogar os inoportunos ou inconvenientes, é o princípio da

- (A) *autotutela*, sem que seja necessária a prévia interferência do Poder Judiciário.
- (B) *publicidade*, que se aperfeiçoa com a publicação dos atos oficiais pelo Poder Judiciário.
- (C) *impessoalidade*, o qual obriga que todos os usuários da via pública sejam fiscalizados, sem quaisquer privilégios.
- (D) *isonomia*, que obriga que todos os atos decisórios em nível municipal sejam assinados pelo Prefeito.
- (E) *moralidade*, segundo o qual o ato administrativo discricionário é anulado quando se revela inconveniente.

**50**

O Município de Salvador elaborou plano estratégico para melhorar as atividades de fiscalização pelos agentes de trânsito e transporte e as condições de segurança, higiene e conforto dos veículos do sistema de transporte público.

Neste contexto, a busca de melhores resultados práticos, menos desperdícios e maior produtividade decorre do seguinte princípio da Administração Pública:

- (A) Moralidade.
- (B) Impessoalidade.
- (C) Isonomia.
- (D) Segurança Jurídica.
- (E) Eficiência.

**51**

Sobre os sinais sonoros utilizados por agentes de trânsito, analise as afirmativas a seguir e assinale V para a verdadeira e F para a falsa.

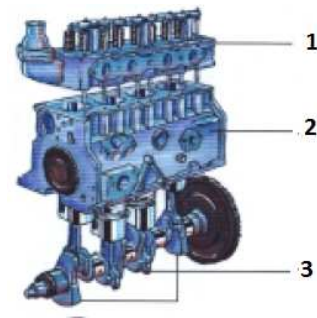
- ( ) Um silvo breve é utilizado para liberar o trânsito em direção/sentido indicado pelo agente.
- ( ) Dois silvos breves indicam parada obrigatória.
- ( ) Um silvo longo é empregado quando for necessário fazer diminuir a marcha dos veículos.

As afirmativas são, na ordem apresentada, respectivamente,

- (A) V – V – V.
- (B) V – F – F.
- (C) F – V – V.
- (D) F – F – V.
- (E) F – F – F.

**52**

A figura abaixo ilustra um motor de combustão interna de um automóvel.



As partes principais indicadas pelos números 1, 2 e 3 são denominadas, respectivamente,

- (A) cabeçote, bloco do motor e conjunto das bielas.
- (B) bloco do motor, cabeçote e conjunto das bielas.
- (C) cabeçote, conjunto das bielas e bloco do motor.
- (D) conjunto das bielas, bloco do motor e cabeçote.
- (E) bloco do motor, conjunto das bielas e cabeçote.

**53**

De acordo com o Código de Trânsito Brasileiro, é obrigatória a expedição de novo Certificado de Registro de Veículo (CRV) quando o proprietário muda de domicílio ou residência.

Quando essas mudanças ocorrem no mesmo Município, o proprietário deve comunicá-las ao órgão executivo de trânsito do Estado, para fins de alteração do CRV, no prazo de

- (A) 15 dias.
- (B) 30 dias
- (C) 45 dias.
- (D) 60 dias.
- (E) 90 dias.

**54**

Em relação às ordens de prevalência para as diferentes formas de sinalização em uma via, assinale a afirmativa correta.

- (A) As normas gerais de circulação e outros sinais prevalecem sobre as normas do agente de trânsito, e as indicações do semáforo prevalecem sobre os demais sinais.
- (B) As ordens do agente de trânsito prevalecem sobre as normas de circulação e outros sinais, e as indicações dos sinais prevalecem sobre as do semáforo.
- (C) As indicações do semáforo prevalecem sobre os demais sinais e as demais normas de trânsito prevalecem sobre as indicações dos sinais.
- (D) As ordens do agente de trânsito prevalecem sobre as normas de circulação e outros sinais, e as indicações dos sinais prevalecem sobre as demais normas de trânsito.
- (E) As indicações dos sinais prevalecem sobre as demais normas de trânsito e sobre as indicações do semáforo.

**55**

No Município de Salvador, o decreto nº 28.278/17 regulamenta o serviço de transporte individual de passageiro com o uso de motocicleta de aluguel (mototáxi).

De acordo com esse decreto, na prestação do serviço, o condutor se obriga a

- (A) possuir touca higiênica descartável para capacete de segurança apenas para seu uso.
- (B) utilizar camisa de manga longa ou curta na cor amarela, com o número do prefixo na cor preta, na forma definida pela SEMOB.
- (C) transportar, no máximo, dois passageiros por deslocamento.
- (D) possuir dois capacetes de segurança, de qualquer cor, com o número do prefixo em preto, dotado de dispositivos retrorrefletivos, de uso obrigatório próprio e do passageiro.
- (E) possuir colete na cor verde, dotado de dispositivos retrorrefletivos e com o número do prefixo na cor preta, na forma definida pela SEMOB.

**56**

Sobre as normas gerais de circulação e conduta indicadas no Código de Trânsito Brasileiro, analise as afirmativas a seguir.

- I. Todo condutor tem, antes de efetuar uma ultrapassagem, que se certificar de que nenhum condutor que venha atrás haja começado uma manobra para ultrapassá-lo.
- II. Ao efetuar uma ultrapassagem, o condutor deve indicar, com antecedência, a manobra pretendida acionando a luz indicadora de direção do veículo ou por meio de gesto convencional de braço.
- III. Todo condutor, ao perceber que o outro que o segue tem o propósito de ultrapassá-lo, deverá, qualquer que seja a faixa de circulação, manter-se nela, sem acelerar a marcha.

Está correto o que se afirma em

- (A) I, somente.
- (B) II, somente.
- (C) III, somente.
- (D) I e II, somente.
- (E) I e III, somente.






**57**

Sobre o uso de luzes em veículos, o Código de Trânsito Brasileiro estabelece que o condutor deve

- (A) manter os faróis do veículo, utilizando luz baixa, durante a noite e durante o dia em toda as vias públicas.
- (B) usar sempre luz alta nas vias não iluminadas.
- (C) manter os faróis em luz alta quando sob chuva forte, neblina ou cerração.
- (D) manter acesas as luzes de posição do veículo para o embarque ou desembarque de passageiros, tanto de dia quanto à noite.
- (E) usar a troca de luz baixa e alta, de forma intermitente, para indicar a intenção de ultrapassar um veículo que segue à frente.

**58**

Dentre os sinais apresentados a seguir, assinale o que indica a existência de uma pista irregular.

- (A) 
- (B) 
- (C) 
- (D) 
- (E) 

**59**

Assinale a opção que indica as velocidades máximas nas rodovias e nas vias urbanas de trânsito rápido, respectivamente, caso não haja sinalização regulamentadora.

- (A) 110km/h e 80 km/h.
- (B) 90 km/h e 80km/h.
- (C) 80 km/h e 80 km/h.
- (D) 80 km/h e 50 km/h.
- (E) 60 km/h e 50 km/h.

**60**

A condução de veículos automotores sob a influência de álcool é considerado crime de trânsito se o condutor apresentar concentração igual ou superior a

- (A) 0,0 miligramas de álcool por litro de ar alveolar.
- (B) 0,1 miligramas de álcool por litro de ar alveolar.
- (C) 0,2 miligramas de álcool por litro de ar alveolar.
- (D) 0,3 miligramas de álcool por litro de ar alveolar.
- (E) 0,4 miligramas de álcool por litro de ar alveolar.

**61**

A figura a seguir apresenta um gesto usual empregado por agentes de trânsito.



Esse gesto indica ordem de

- (A) diminuição de velocidade.
- (B) parada de todos os veículos em todas as direções, qualquer que seja o sentido.
- (C) parada para todos os veículos que venham de direções que cortem ortogonalmente a direção indicada pelos braços estendidos, qualquer que seja o sentido de seu deslocamento.
- (D) parada para todos os veículos que venham na direção indicada pelos braços estendidos, qualquer que seja o sentido de seu deslocamento.
- (E) parada para todos os veículos que venham de direções que cortem ortogonalmente a direção indicada pelos braços estendidos, apenas para os veículos cujo sentido o agente esteja observando.

**62**

As opções a seguir apresentam infrações de trânsito consideradas gravíssimas, **à exceção de uma**. Assinale-a.

- (A) Transitar com validade da Carteira Nacional de Habilitação vencida há mais de trinta dias.
- (B) Transportar crianças em veículo automotor sem observância das normas de segurança especiais.
- (C) Dirigir sob a influência de álcool ou de qualquer outra substância psicoativa.
- (D) Estacionar o veículo na pista de rolamento das estradas, das rodovias, das vias de trânsito rápido e das vias dotadas de acostamento.
- (E) Ficar o condutor ou passageiro sem usar o cinto de segurança.

**63**

Analise a descrição a seguir, de um tipo de via em um sistema rodoviário.

*"Via caracterizada por acessos especiais com trânsito livre, sem interseções em nível, sem acessibilidade direta aos lotes lindeiros e sem travessia de pedestres em nível".*

Esta descrição caracteriza uma via do tipo

- (A) rural.
- (B) local.
- (C) de trânsito rápido.
- (D) arterial.
- (E) coletora.

**64**

O Decreto Municipal nº 25.966/15, que regula a operação do Serviço Público de Transporte Coletivo de Passageiros por Ônibus (STCO) no Município de Salvador, pune o condutor que utiliza telefone celular ou fone de ouvido conectado a qualquer aparelho eletrônico sonoro.

Assinale a opção que qualifica, corretamente, a infração e estabelece o valor da multa.

- (A) Infração de natureza leve, punida com multa de valor correspondente a 10 vezes o valor da tarifa em vigor no STCO.
- (B) Infração de natureza média, punida com multa de valor correspondente a 30 vezes o valor da tarifa em vigor no STCO.
- (C) Infração de natureza média, punida com multa de valor correspondente a 50 vezes o valor da tarifa em vigor no STCO.
- (D) Infração de natureza grave, punida com multa de valor correspondente a 100 vezes o valor da tarifa em vigor no STCO.
- (E) Infração de natureza gravíssima, punida com multa de valor correspondente a 200 vezes o valor da tarifa em vigor no STCO.

**65**

Com relação aos veículos utilizados para a prestação do Serviço de Transporte de Escolares (SETES), analise as afirmativas a seguir assinale V para a verdadeira e F para a falsa.

- ( ) Devem ter idade máxima de 10 anos contados do ano de sua fabricação.
- ( ) Devem estar equipados com sistema de rastreamento por satélite (GPS).
- ( ) Devem possuir capacidade igual ou superior a 7 passageiros sentados, incluído o motorista.

As afirmativas são, na ordem apresentada, respectivamente,

- (A) V – V – V.
- (B) V – F – V.
- (C) F – V – V.
- (D) F – F – V.
- (E) F – F – F.

**66**

Com relação ao Sistema Nacional de Trânsito, analise as afirmativas a seguir e assinale V para a verdadeira e F para a falsa.

- ( ) Conselho Nacional de Trânsito é o coordenador do Sistema e órgão máximo normativo e consultivo.
- ( ) O recolhimento da Carteira Nacional de Habilitação de motoristas infratores é competência dos órgãos e entidades executivos do trânsito dos municípios.
- ( ) Os órgãos colegiados responsáveis pelo julgamento dos recursos interpostos contra penalidades de trânsito são conhecidos como Cetrans (Conselhos Estaduais de Trânsito).

As afirmativas são, na ordem apresentada, respectivamente,

- (A) V – V – V.
- (B) V – F – V.
- (C) V – F – F.
- (D) F – V – V.
- (E) F – F – F.

**67**

O Decreto Municipal nº 18.226/08 regula o Subsistema de Transporte Especial Complementar (STEC) do Município de Salvador.

Assinale a opção que indica, segundo esse decreto, a infração que, na primeira reincidência, acarretará multa ao permissionário.

- (A) Manter pessoal de operação sem vínculo empregatício com os permissionários.
- (B) Deixar de atender a programação de vistoria dos veículos estabelecida pela TRANSALVADOR.
- (C) Abastecer ou efetuar a manutenção do veículo com passageiro a bordo.
- (D) Trafegar com velocidade inferior à mínima estabelecida pelo CTB.
- (E) Operar, após as 18 horas, com as luzes internas, letreiros e demais iluminações do veículo apagadas.

**68**

Avalie as situações a seguir, nas quais há um cruzamento de dois fluxos em um local não sinalizado.

- I. Cruzamento entre uma rodovia e uma via local.
- II. Encontro de uma via com uma rotatória.
- III. Encontro entre duas vias locais.

Em cada uma dessas situações, a preferência será

- (A) I. de quem está circulando pela rodovia;  
II. de quem está na rotatória;  
III. de quem vier à direita do condutor.
- (B) I. de quem está circulando pela rodovia;  
II. de quem está na via;  
III. de quem vier à direita do condutor.
- (C) I. de quem está circulando pela rodovia;  
II. de quem está na rotatória;  
III. de quem vier à esquerda do condutor.
- (D) I. de quem está circulando pela via local;  
II. de quem está na via;  
III. de quem vier à esquerda do condutor.
- (E) I. de quem está circulando pela via local;  
II. de quem está na rotatória;  
III. de quem vier à esquerda do condutor.

**69**

A lei municipal nº 9.283/17 regula e disciplina a prestação de Serviço de Transporte Individual de Passageiros por Táxi (SETAX) no Município de Salvador.

As opções a seguir apresentam requisitos a serem atendidos pela pessoa física para obtenção e manutenção da autorização à exploração e prestação do SETAX, **à exceção de uma**. Assinale-a.

- (A) Ser maior de 21 anos e possuir nacionalidade de qualquer país do Mercosul.
- (B) Comprovar residência no Município de Salvador.
- (C) Apresentar Certificado de Antecedentes Criminais.
- (D) Apresentar as certidões negativas, cíveis e criminais, expedidas pela Justiça Federal, Estadual e Eleitoral.
- (E) Estar inscrito no cadastro da Secretaria Municipal da Fazenda na qualidade de autônomo.

**70**

Segundo o Art. 144, § 10, da Constituição da República Federativa do Brasil/88, a segurança viária, no âmbito dos Estados, do Distrito Federal e dos Municípios, compete

- (A) ao governo federal, pelo seu Departamento Nacional de Trânsito.
- (B) aos agentes de segurança privados contratados pelas concessionárias das vias públicas.
- (C) às guardas estadual e municipal, regulamentadas na forma da lei.
- (D) à polícia estadual, municipal ou do Distrito Federal, conforme o caso.
- (E) aos respectivos órgãos ou entidades executivos e seus agentes de trânsito.



Realização

