



# PMS – BA 2019

Prefeitura Municipal do Salvador - Estado da Bahia

## TARDE

# TÉCNICO DE ENFERMAGEM DO TRABALHO

Typo 1 – BRANCA



### SUA PROVA

- As questões objetivas têm cinco alternativas de resposta (A, B, C, D, E) e somente uma delas está correta;
- Além deste caderno de prova, contendo sessenta questões objetivas e uma questão discursiva, você receberá do fiscal de sala:
  - a folha de respostas das questões objetivas
  - a folha de texto definitivo para as respostas das questões discursivas



### TEMPO

- Você dispõe de **3h30min** para a realização da prova, já incluído o tempo para a marcação da folha de respostas;
- **3 horas** após o início da prova é possível retirar-se da sala, sem levar o caderno de prova;
- **30 minutos** antes do término do período de prova é possível retirar-se da sala **levando o caderno de provas**.



### NÃO SERÁ PERMITIDO

- Qualquer tipo de comunicação entre os candidatos durante a aplicação da prova;
- Anotar informações relativas às respostas em qualquer outro meio que não seja o caderno de prova;
- Levantar da cadeira sem autorização do fiscal de sala;
- Usar o sanitário ao término da prova, após deixar a sala.



### INFORMAÇÕES GERAIS

- Verifique se seu caderno está completo, sem repetição de questões ou falhas. Caso contrário, notifique imediatamente o fiscal da sala, para que sejam tomadas as devidas providências;
- Confira seus dados pessoais, especialmente nome, número de inscrição e documento de identidade e leia atentamente as instruções para preencher a folha de respostas;
- Use somente caneta esferográfica, fabricada em material transparente, com tinta preta ou azul;
- Assine seu nome apenas no(s) espaço(s) reservado(s);
- Confira seu cargo, cor e tipo do caderno de provas. Caso tenha recebido caderno de cargo ou cor ou tipo **diferente** do impresso em sua folha de respostas, o fiscal deve ser **obrigatoriamente** informado para o devido registro na ata da sala;
- Reserve tempo suficiente para o preenchimento da sua folha de respostas. O preenchimento é de sua responsabilidade e não será permitida a troca da folha de respostas em caso de erro;
- Para fins de avaliação, serão levadas em consideração apenas as marcações realizadas na folha de respostas;
- A FGV coletará as impressões digitais dos candidatos na lista de presença;
- Os candidatos serão submetidos ao sistema de detecção de metais quando do ingresso e da saída de sanitários durante a realização das provas;
- **Boa sorte!**



## MÓDULO I

### Língua Portuguesa

#### 1

“Um estudo realizado pela oncologista Luciana Landeiro, da equipe do Núcleo de Oncologia da Bahia (NOB)/Grupo Oncoclínicas, revela que mulheres com diagnóstico de câncer de mama, mesmo aquelas que já enfrentaram a doença, têm menos chances no mercado de trabalho. O estudo “Retorno ao trabalho após o diagnóstico do câncer de mama: Estudo prospectivo observacional no Brasil” é resultado da tese de doutorado da médica na Faculdade de Medicina da Universidade de São Paulo (USP) e foi publicada na Revista Câncer, publicação científica norte-americana e uma das principais revistas internacionais na área de oncologia”.

*Tribuna da Bahia, 23/11/2018.*

O segmento aborda estudo ligado à oncologia, “estudo do câncer”.

Assinale a opção que indica o vocábulo formado por esse mesmo radical e mostra seu significado corretamente.

- (A) Filologia: estudo das relações sociais.
- (B) Biologia: estudo dos *habitats*.
- (C) Pneumologia: estudo dos vários tipos de borracha.
- (D) Ideologia: estudo de deficiências mentais.
- (E) Andrologia: estudo físico do homem.

#### 2

A notícia dada a seguir é veiculada como possibilidade, e não como certeza.

***Araguainha: a cidade brasileira que está no centro da maior cratera de asteroide na América do Sul.***

*Estudos apontam que o impacto pode ter provocado a maior extinção de vida na Terra - maior, inclusive, que a dos dinossauros. A colisão teria destruído, imediatamente, tudo o que estava num raio de até 250 quilômetros e, posteriormente, gerado um rápido e fatal aquecimento global, causando tsunamis e terremotos...*

*Uol, 23/11/2018.*

Assinale a opção que indica os meios linguísticos que produzem essa noção de possibilidade.

- (A) Informações dadas a partir de estudos / exagero na enunciação dos fatos.
- (B) Exagero na enunciação dos fatos / citação da provável extinção dos dinossauros.
- (C) Citação da provável extinção dos dinossauros / emprego do verbo “poder”.
- (D) Emprego do verbo “poder” / utilização do futuro do pretérito.
- (E) Emprego do futuro do pretérito / informações dadas a partir de estudos.

#### 3

**Crise no emprego eleva em 1,4 milhão o número de consultas psiquiátricas**

Entre 2014 e 2017, a busca por atendimentos avançou 54%; afastamentos já têm alta de 12% no ano.

*Folha de São Paulo, 23/11/2018.*

Sobre os componentes estruturais desse segmento de texto, assinale a afirmativa correta.

- (A) A “crise no emprego” se refere a problemas advindos da vida diária na atividade de trabalho.
- (B) A “crise no emprego” mostra a consequência advinda do aumento de consultas psiquiátricas.
- (C) O “Entre 2014 e 2017” indica momento passado, por isso, a informação perde atualidade.
- (D) O “já” mostra que o crescimento dos atendimentos também está acima do esperado.
- (E) O “têm alta de 12% no ano” indica que o número de altas médicas também cresceu no período.

#### 4

Assinale a opção que mostra a frase cuja lacuna deve ser preenchida com a primeira das formas entre parênteses.

- (A) “\_\_\_\_\_ é um homem que jamais bate numa mulher sem primeiro tirar o chapéu”. (cavaleiro / cavalheiro)
- (B) “A indústria do \_\_\_\_\_ se beneficia do sexo, ou você acha que as pessoas andariam com os jeans apertados desse jeito se não fosse pela conotação sexual?”. (vestiário/vestuário)
- (C) “A diminuição \_\_\_\_\_ do nível da água dos reservatórios trazia preocupação aos governadores de Estado”. (eminente/imminente)
- (D) “As mudanças no Código Penal incluem possibilidades de \_\_\_\_\_ penas mais duras aos criminosos”. (infligir/infringir)
- (E) “As novas medidas presidenciais vieram \_\_\_\_\_ o acerto das votações no Congresso Nacional”. (retificar / ratificar)

#### 5

Há conjuntos de palavras que podem ser consideradas sinônimas em alguns contextos; assim ocorre com “despedir”, “exonerar”, “demitir”, “mandar embora”, “dispensar”.

Assinale a opção que apresenta a frase cuja lacuna deve ser preenchida com o verbo “**exonerar**” em forma verbal adequada.

- (A) O governo decidiu \_\_\_\_\_ funcionários públicos.
- (B) O novo gerente \_\_\_\_\_ vários funcionários.
- (C) O novo governo pretende \_\_\_\_\_ alguns ministros.
- (D) O diretor do colégio pode \_\_\_\_\_ alguns professores.
- (E) A gerente \_\_\_\_\_ a empregada mal-educada.

6

As frases a seguir criticam alguma característica ou procedimento humano. Assinale a opção que indica a frase que tem essa característica identificada **erroneamente**.

- (A) “Camarão que dorme a correnteza leva” / inércia.
- (B) “Quem fica olhando o vento jamais semeará, quem fica olhando as nuvens jamais ceifará” / indiferença.
- (C) “Os bispos são, no jogo de xadrez, os que estão mais próximos dos reis” / interesse.
- (D) “Todo homem tem seu preço. E alguns até dão desconto” / corrupção.
- (E) “O tempo é um grande professor, mas infelizmente ele mata todos os seus discípulos” / brevidade da vida.

7

**Não foi para isso**

“Não sei se é verdade. Dizem que Santos-Dumont suicidou-se quando soube que, durante a Guerra Mundial, a primeira, de 1914 a 1918, estavam usando aviões para bombardear cidades indefesas. Não fora para isso -- pensava ele -- que inventara a navegabilidade no ar, façanha que ninguém lhe contesta, tampouco inventara o avião, cuja autoria lhe é indevidamente negada pelos norte-americanos.

Excetuando o Dr. Guilhotin, que construiu um aparelho específico para matar mais rapidamente durante os anos do Terror, na Revolução Francesa, em geral o pessoal que inventa alguma coisa pensa em beneficiar a humanidade, dotando-a de recursos que tornam a vida melhor, se possível para todos”.

Carlos Heitor Cony, *in Folha de São Paulo*. 27/12/2007.

Esse fragmento de uma crônica de Cony é um exemplo de texto

- (A) didático, pois ensina algo sobre personagens famosos.
- (B) descritivo, pois fornece dados sobre as invenções citadas.
- (C) narrativo, pois relata a história da criação do avião e da guilhotina.
- (D) argumentativo, pois apresenta fato que comprova o título da crônica.
- (E) histórico, pois traz informações sobre o passado a fim de registrá-lo.

8

Assinale a opção que mostra uma frase **incoerente**.

- (A) Diplomacia é a arte de saber o que não dizer.
- (B) São necessários 20 anos de paz para formar um homem e, apenas, 20 segundos para destruí-lo.
- (C) A seda foi inventada para que as mulheres pudessem sair desnudas com vestidos.
- (D) Cada um se defende como pode. Cachorro morde. Boi chifra. Deputado vota contra.
- (E) A paz não é feita com amigos; é feita com inimigos.

9

O ex-presidente Kennedy disse, certa vez, que “A paz mundial, como a paz em uma comunidade, não necessita que cada um ame o seu vizinho – mas que vivam com mútua tolerância, submetendo suas disputas a um acordo justo e pacífico”.

Sobre a estruturação desse pensamento, assinale a afirmativa **inadequada**.

- (A) “como a paz em uma comunidade” mostra uma comparação entre duas circunstâncias de paz.
- (B) “não necessita que cada um ame o seu vizinho” contraria um pensamento bastante corrente.
- (C) “mas que vivam com mútua tolerância” indica uma oposição à frase anterior.
- (D) “submetendo suas disputas a um acordo justo e pacífico” faz uma alusão a grandes organismos internacionais.
- (E) “não necessita que cada um ame seu vizinho” refere-se exclusivamente à última paz citada.

10

“Esse mundo é o grande ateliê de um escultor. Somos as estátuas, e corre por aqui um intenso rumor de que alguns de nós um dia vamos ganhar a vida”.

C. S. Lewis

O problema estrutural que ocorre nesse fragmento de texto diz respeito

- (A) ao emprego de demonstrativos.
- (B) à pontuação.
- (C) à seleção vocabular.
- (D) à regência.
- (E) à concordância.

11

Um texto publicitário da Febraban (Federação Brasileira de Bancos) diz o seguinte:

“Ao escrever as regras da autorregulação bancária, os bancos criaram, proativamente, regras mais rigorosas do que as próprias leis do país.

E o consumidor ganhou na prática:

- \* relações de consumo mais claras e transparentes;
- \* regras para renegociação de dívidas;
- \* iniciativas para prevenir a lavagem de dinheiro;
- \* compromisso com a sustentabilidade ambiental”. (adaptado)

O texto só **não** privilegia

- (A) a segurança dos negócios.
- (B) a preocupação moral.
- (C) o cuidado com o meio ambiente.
- (D) a preocupação com o consumismo.
- (E) as medidas anticorrupção.

**12**

Um candidato a um concurso público foi encarregado de escrever um texto cujo tema era a violência.

Selecionando previamente o que poderia ser enquadrado na tipologia da violência, o candidato apontou cinco fatores.

Assinale a opção que indica não um tipo de violência, mas uma causa.

- (A) Os abusos sexuais de pais contra filhas.
- (B) A presença de cenas violentas nos filmes e programas de TV.
- (C) As agressões de pais contra filhos.
- (D) As violências praticadas contra as mulheres.
- (E) Os assaltos à mão armada.

## Raciocínio Lógico

**13**

Sobre uma mesa, há 3 caixas coloridas: uma verde, uma amarela e uma azul. Três bolas, numeradas com 1, 2 e 3, foram colocadas uma em cada caixa. Sabe-se que a bola 3 não está na caixa amarela e que a bola da caixa azul é a de número par.

Estão nas caixas verde, amarela e azul, nessa ordem, as bolas

- (A) 1, 2 e 3.
- (B) 1, 3 e 2.
- (C) 2, 1 e 3.
- (D) 3, 2 e 1.
- (E) 3, 1 e 2.

**14**

Suponha que você, a partir de um ponto inicial, desloque-se 3 metros para o norte; a seguir, 4 metros para o oeste; e, finalmente, 5 metros para o sul.

Em relação ao ponto inicial, sua posição final está

- (A) 4 metros a oeste e 2 metros ao sul.
- (B) 3 metros a oeste e 3 metros ao sul.
- (C) 2 metros a leste e 3 metros ao sul.
- (D) 4 metros a leste e 2 metros ao sul.
- (E) 3 metros a leste e 3 metros ao norte.

**15**

Maria, Carla e Daniela marcaram um encontro às 19h. Maria chegou às 18h48, Carla chegou 27 minutos depois de Maria e Daniela chegou às 19h12.

É correto afirmar que

- (A) Carla chegou antes de Daniela.
- (B) Carla chegou às 19h05.
- (C) Daniela chegou 7 minutos antes de Carla.
- (D) Daniela chegou 22 minutos depois de Maria.
- (E) Daniela chegou 3 minutos antes de Carla.

**16**

O Partido A tinha 9 deputados a mais do que o Partido B. Quatro deputados do Partido A se transferiram para o Partido B. Não houve outras transferências.

O Partido A agora tem a mais do que o Partido B

- (A) 5 deputados.
- (B) 4 deputados.
- (C) 3 deputados.
- (D) 2 deputados.
- (E) 1 deputado.

**17**

Pedro tem 33 moedas e um tabuleiro quadriculado com 5 linhas e 10 colunas. Após Pedro colocar todas as suas moedas no tabuleiro, uma por quadrícula, é verdade que

- (A) nenhuma linha do tabuleiro ficou vazia.
- (B) pelo menos uma linha do tabuleiro ficou vazia.
- (C) alguma linha do tabuleiro ficou com exatamente 3 moedas.
- (D) alguma linha do tabuleiro ficou com mais de 6 moedas.
- (E) alguma linha do tabuleiro ficou com exatamente 6 moedas.

**18**

Considere a sequência infinita de letras ONDINAONDINAONDINAOND...

A 2019ª letra dessa sequência é

- (A) O.
- (B) N.
- (C) D.
- (D) I.
- (E) N.

**19**

Dizemos que um número de 5 algarismos é “soterônês” se a soma de seus algarismos é 18, os 5 algarismos são diferentes e o número é ímpar.

Assinale a opção que mostra um número “soterônês”.

- (A) 23456.
- (B) 12456.
- (C) 65421.
- (D) 65321.
- (E) 54623.

**20**

Se **não** é verdade que “Todo soterônito é soterônoso”, então é correto afirmar que

- (A) “Nenhum soterônito é soterônoso”.
- (B) “Todo soterônoso é soterônito”.
- (C) “Algum soterônito não é soterônoso”.
- (D) “Algum soterônoso não é soterônito”.
- (E) “Algum soterônito é soterônoso”.

## MÓDULO II

### Informática Básica

21

O Windows 10 apresenta uma mensagem pedindo para o usuário escolher o que fazer com unidades removíveis quando um *pen drive* formatado com FAT-32 é inserido na interface USB do computador.

Considerando a configuração padrão, uma das opções válidas é:

- (A) ejetar dispositivo.
- (B) formatar *pen drive*.
- (C) mudar o nome lógico do *drive*.
- (D) abrir pasta para exibir arquivos.
- (E) trocar letra associada ao dispositivo.

22

Assinale a opção que contém somente dispositivos que podem ser utilizados para carga do sistema operacional.

- (A) Disco óptico, disco rígido e *pen drive*.
- (B) Disco óptico, *pen drive* e *plotter*.
- (C) Disco óptico, *pen drive* e *scanner*.
- (D) Disco rígido, *plotter* e *scanner*.
- (E) *Pen drive*, *plotter* e *scanner*.

23

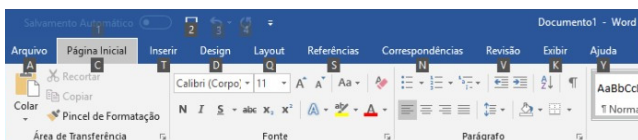
No Windows 10, o usuário abriu a “Lixeira” e moveu um arquivo de lá para a “Área de Trabalho”.

Assinale a opção que indica o resultado dessa operação.

- (A) O arquivo permanecerá na “Lixeira”, mas o seu “Local Original” passará a ser a “Área de Trabalho”.
- (B) O arquivo será recuperado e armazenado na “Área de Trabalho”.
- (C) O arquivo será recuperado e armazenado no “Local Original”.
- (D) O arquivo será recuperado e o Windows irá perguntar onde armazenar o arquivo.
- (E) O arquivo será removido definitivamente.

24

Observe a figura a seguir representando um fragmento de um aplicativo para Windows. Note os números e as letras apresentados junto às opções de menu.



Para fazer com que esses números e letras aparecessem, o usuário precisou

- (A) apertar a tecla “Windows” (também chamada de “Iniciar”).
- (B) apertar a tecla Alt.
- (C) apertar a tecla Ctrl.
- (D) configurar no “Painel de Controle” a opção de mostrar atalhos nos aplicativos.
- (E) instalar a última versão do pacote *Office* com opção de acessibilidade.

25

Analise a figura a seguir, que mostra algumas células do Excel do MS Office.

	A	B	C	D	E
1	1	2	4		
2	8	16	32		
3	64	128	256		

Se o conteúdo da célula G1 (mostrado como equação na figura) for copiado por meio de Ctrl+C e Ctrl+V para a célula H2, o valor da célula H2 será

- (A) 3.
- (B) 12.
- (C) 20.
- (D) 40.
- (E) 48.

26

Alguns dispositivos de armazenamento USB, conhecidos como *pen drives*, possuem uma chave de proteção contra gravação na parte lateral ou inferior.

A opção de proteção contra gravação é útil para

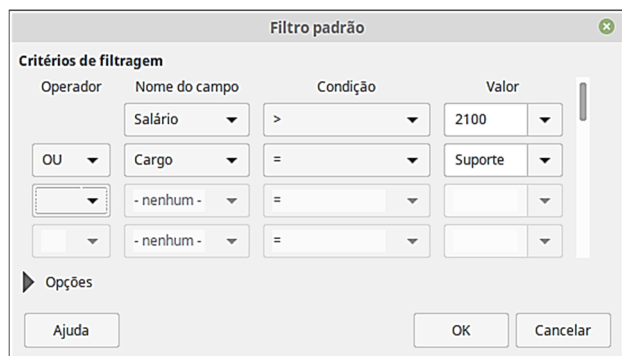
- (A) impedir a leitura dos arquivos deste *pen drive*.
- (B) impedir que o dispositivo seja reconhecido pelo computador hospedeiro.
- (C) impedir que os arquivos do *pen drive* sejam copiados para o computador hospedeiro.
- (D) impedir que um aplicativo seja executado a partir deste *pen drive*.
- (E) proteger o dispositivo contra a gravação de um vírus ou *malware*.

**27**

A figura a seguir mostra uma planilha criada no LibreOffice Calc contendo a relação de empregados de uma empresa.

	A	B	C
1	Nome	Cargo	Salário
2	João	Analista	R\$ 2.000,00
3	Pedro	Vendedor	R\$ 3.000,00
4	Daniel	Suporte	R\$ 1.500,00
5	Rafael	Suporte	R\$ 1.900,00
6	Thiago	Vendedor	R\$ 2.800,00
7	Paula	Analista	R\$ 2.200,00
8	Fernanda	Analista	R\$ 1.900,00
9	Cláudia	Analista	R\$ 3.000,00
10	Henrique	Suporte	R\$ 2.350,00
11	César	Vendedor	R\$ 5.000,00

A esta tabela foi aplicado o filtro padrão a seguir.



Assinale a opção que indica o número de empregados visíveis na planilha após a aplicação do filtro.

- (A) 6.
- (B) 7.
- (C) 8.
- (D) 9.
- (E) 10.

**28**

No Windows 10 BR, com as configurações padrão inalteradas, você mantém a tecla Shift pressionada enquanto exclui um arquivo por meio da tecla Delete.

Assinale a opção que indica o resultado desse procedimento.

- (A) O arquivo será enviado para a lixeira.
- (B) Será exibida uma caixa de diálogo perguntando se o arquivo deve ser enviado para a lixeira.
- (C) O arquivo será excluído sem passar pela lixeira.
- (D) Será exibida uma caixa de diálogo perguntando se o arquivo deve ser excluído permanentemente.
- (E) O arquivo será excluído temporariamente, passando pela lixeira.

**29**

O texto a seguir foi utilizado no LibreOffice Writer para gerar uma tabela por meio do recurso “Converter de texto para tabela”.

Fundo;mar/19;abr/19  
 Devant Solidus Cash;0,50%;0,48%  
 AF Invest Geraes 30;0,63%;0,54%  
 Quasar Advantage FIRF LP;0,53%;0,47%  
 ARX Hedge Deb Inc;0,52%;0,43%

A tabela resultante é mostrada a seguir.

Fundo	mar/19	abr/19
Devant Solidus Cash	0,50%	0,48%
AF Invest Geraes 30	0,63%	0,54%
Quasar Advantage FIRF LP	0,53%	0,47%
ARX Hedge Deb Inc	0,52%	0,43%

A opção do diálogo “Converter texto em tabela” utilizada foi:

- (A) Separar texto em: Tabulações.
- (B) Separar texto em: Ponto e vírgula.
- (C) Separar texto em: Parágrafo.
- (D) Separar texto em: Outra (espaço em branco).
- (E) Separar texto automaticamente.

**30**

Relacione as teclas de atalho do Windows 10 BR, listadas a seguir, às suas respectivas funções associadas.

- 1. Tecla do Windows + E
- 2. Tecla do Windows + Ctrl + D
- 3. Tecla do Windows + D
- 4. Tecla do Windows + R
- ( ) Abre o Explorador de Arquivos
- ( ) Cria uma nova área de trabalho virtual
- ( ) Executa um comando
- ( ) Mostra a área de trabalho

Assinale a opção que mostra a relação correta, na ordem apresentada.

- (A) 1, 2, 4 e 3
- (B) 2, 1, 4 e 3
- (C) 4, 1, 3 e 2
- (D) 3, 1, 2 e 4
- (E) 2, 4, 1 e 3

**Atualidades**

**31**

A respeito da iniciativa chinesa conhecida como "Um Cinturão e Uma Rota" (*One Belt One Road – Obor*), são corretas as afirmativas a seguir, à exceção de uma. Assinale-a.

- (A) Pode reconfigurar o comércio global e revolucionar as dinâmicas geopolíticas da Ásia e de seu entorno.
- (B) Inspira-se na histórica Rota da Seda, à qual acrescentou uma rota marítima para os países do Oceano Índico.
- (C) Anuncia a abertura da China para uma economia de mercado, passando a ser o primeiro país socialista com livre iniciativa.
- (D) Possui um eixo terrestre, da China até a Escandinávia, e um marítimo, do Sul da China ao Mediterrâneo.
- (E) Inclui países da Ásia, África e Europa, englobando boa parte do PIB mundial e da população do planeta.

**32**

Relacione os marcadores econômicos às suas respectivas definições.

1. Taxa de câmbio
  2. Taxa SELIC
  3. Risco de crédito
  4. Índice IPCA
- ( ) Referência padrão para medir a inflação de produtos e serviços relativos ao consumo pessoal das famílias.
- ( ) Taxa de juros básicos que indexa os empréstimos em dinheiro feitos pelo governo aos bancos.
- ( ) Medida de confiança dos investidores internacionais na economia de um determinado país.
- ( ) Valor pelo qual a moeda nacional é trocada por moedas estrangeiras, em geral pelo dólar.

Assinale a opção que apresenta a relação correta, segundo a ordem apresentada.

- (A) 1, 3, 2 e 4.  
 (B) 1, 4, 2 e 3.  
 (C) 4, 2, 3 e 1.  
 (D) 2, 4, 3 e 1.  
 (E) 4, 3, 2 e 1.

**33**



Marepe, *Doce céu de Santo Antônio*, performance de 2001  
 (Foto: Marcondes Dourado)

Observe a sequência de fotos que registra a performance do artista baiano Marepe com chumaços de algodão doce.

A respeito dessa obra, analise as afirmativas a seguir.

- I. O movimento dos braços do artista mistura os planos da figura e do fundo, dando a impressão de que toca as nuvens.
- II. A sequência de fotos narra uma história poética, na qual o artista aparece como um gigante que se alimenta de nuvens.
- III. A performance produz uma metáfora visual baseada em coisas simples do cotidiano, como um doce e um céu azul com nuvens.

Está correto o que se afirma em

- (A) I, apenas.  
 (B) I e II, apenas.  
 (C) I e III, apenas.  
 (D) II e III, apenas.  
 (E) I, II e III.

**34**



Agência: Butter Berlim / Anunciante: ONG Bund - Amigos da Terra

A campanha publicitária da ONG alemã *Bund – Amigos da Terra*

- (A) alerta para a necessidade de zelar pelas condições de conservação dos veículos circulantes.
- (B) critica o uso de carros individuais como principal meio de transporte nas grandes cidades.
- (C) demonstra a ineficácia de iniciativas pessoais de preservação do meio-ambiente.
- (D) denuncia a ação poluente dos carros e o impacto da emissão de gás carbônico para o planeta.
- (E) estimula as pesquisas em busca de novas tecnologias em substituição aos motores a combustão.

**35**



“What is the color of my skin? / Qual é a cor da minha pele?”

Moisés Patrício e Paulo Nazareth, 2013, performance, fotografia, 30 x 30 cm.

Nessa ação performática, os artistas incentivam um debate sobre a sociedade brasileira e

- (A) promovem o etnocentrismo.  
 (B) refletem sobre a discriminação racial.  
 (C) reforçam a estratificação social.  
 (D) protestam contra a exclusão linguística.  
 (E) exaltam a pátria latina.



## Legislação Específica

36

João, cidadão brasileiro, tomou conhecimento de que determinado agente público estava lesando o patrimônio público, o que ocorria com o desvio de vultosos recursos para sua conta particular.

Com o objetivo de responsabilizar o agente público, de modo que ele fosse obrigado a devolver os valores desviados, João, por intermédio de seu advogado, poderia ajuizar

- (A) Mandado de Injunção.
- (B) *Habeas Data*.
- (C) Mandado de Segurança.
- (D) Ação Popular.
- (E) Reclamação.

37

Maria soube da promulgação da Lei nº 123 e ficou preocupada com a possibilidade de que pudesse ser afetada a propriedade de determinado veículo automotor já incorporado à sua esfera jurídica em momento anterior.

Seu advogado tranquilizou-a, informando que o seu direito estava protegido pela “coisa julgada”, o que significa dizer que

- (A) houve uma decisão judicial em benefício de Maria, da qual não cabia mais recurso.
- (B) o direito de Maria estava materializado em uma “coisa”, que foi objeto de julgamento.
- (C) a Lei nº 123 não seria aplicada a “coisas”, somente a pessoas.
- (D) houve um julgamento que afastou as “coisas” do alcance da Lei nº 123.
- (E) a Lei nº 123 somente poderia modificar a decisão judicial que beneficiou Maria caso o previsse expressamente.

38

A Antônio, servidor público municipal, foi informado que o Município era responsável pelo atendimento de diversos direitos relacionados à seguridade social.

Ao questionar seu superior hierárquico sobre que direitos seriam estes, foi-lhe informado corretamente que, à luz da Constituição da República, eles abrangeriam

- (A) educação, previdência e assistência social.
- (B) saúde, segurança pública e seguros.
- (C) previdência, saúde e assistência social.
- (D) assistência social, seguros e educação.
- (E) segurança pública, previdência e saúde.

39

Ivo, servidor público do Município do Salvador, praticou a infração disciplinar de corrupção. Ocorre que o processo administrativo a que respondia somente foi concluído após a sua passagem para a inatividade.

Nesse caso, é correto afirmar que, de acordo com a sistemática da Lei Complementar nº 1/1991, do Município do Salvador, Ivo

- (A) não pode sofrer qualquer sanção disciplinar.
- (B) pode sofrer a sanção de demissão.
- (C) pode sofrer a sanção de disponibilidade.
- (D) pode sofrer a sanção de cassação de aposentadoria.
- (E) pode sofrer a sanção de extinção de vínculo.

40

Determinado Secretário do Município de Salvador solicitou que sua assessoria, considerando o disposto na Lei Orgânica do Município, analisasse a possibilidade de doação dos bens do Município, bem como a existência de balizamentos quanto aos beneficiários.

A assessoria respondeu corretamente que a doação

- (A) não pode ser realizada, pois a dilapidação do patrimônio municipal configura crime de responsabilidade do respectivo autor.
- (B) pode ser realizada e alcançar qualquer beneficiário, pessoa natural ou jurídica, pública ou privada, sendo exigida autorização legislativa.
- (C) pode ser realizada, mas somente pode beneficiar entes públicos, instituições de assistência social e cooperativas de interesse social, exigida a autorização legislativa.
- (D) pode ser realizada e alcançar qualquer beneficiário, pessoa natural ou jurídica, pública ou privada, não sendo exigida autorização legislativa.
- (E) pode ser realizada, mas somente pode beneficiar entes públicos, instituições de assistência social e cooperativas de interesse social, não sendo exigida a autorização legislativa.

## MÓDULO III

### Conhecimentos Específicos

41

Leia o fragmento a seguir.

“O \_\_\_\_\_ é a porção mais curta do \_\_\_\_\_, ligando-se ao \_\_\_\_\_ pelo piloro”.

Assinale a opção cujos itens completam corretamente as lacunas do fragmento acima.

- (A) jejuno – intestino grosso - reto
- (B) duodeno – intestino delgado – estômago
- (C) íleo – intestino grosso – duodeno
- (D) duodeno – intestino grosso – jejuno
- (E) jejuno – intestino delgado - estômago

**42**

O Sistema Nervoso Periférico é responsável pela transmissão de estímulos do corpo ao cérebro e vice-versa.

Assinale a opção que corresponde a uma das estruturas que formam esse sistema.

- (A) Cerebelo.
- (B) Tálamo.
- (C) Hipotálamo.
- (D) Nervos Cranianos.
- (E) Ventrículos Cerebrais.

**43**

Ao administrar a Penicilina G Potássica, o profissional de enfermagem deve estar atento a algumas recomendações específicas, como o uso simultâneo de outras drogas utilizando, ou não, a mesma via.

Nesse sentido, recomenda-se **não** administrar a Penicilina junto com aminoglicosídeos, porque pode

- (A) ocorrer a inativação de ambos.
- (B) diminuir a concentração da penicilina.
- (C) aumentar a toxicidade do aminoglicosídeo.
- (D) aumentar a toxicidade da penicilina.
- (E) diminuir a ação do aminoclicosídeo.

**44**

Com relação à desinfecção e esterilização de materiais e equipamentos de saúde, analise as afirmativas a seguir e assinale V para a verdadeira e F para a falsa.

- ( ) Os produtos classificados como semi-críticos são aqueles que entram em contato com pele não íntegra ou mucosas íntegras colonizadas.
- ( ) Os materiais utilizados na assistência ventilatória e na inaloterapia, podem ser submetidos à desinfecção por métodos de imersão química líquida com a utilização de saneantes à base de aldeídos.
- ( ) O monitoramento do processo de esterilização com indicadores físicos deve ser registrado apenas no primeiro ciclo de esterilização.

As afirmativas são, na ordem apresentada, respectivamente,

- (A) V – F – V.
- (B) F – F – F.
- (C) V – V – V.
- (D) F – F – V.
- (E) V – F – F.

**45**

A equipe de Saúde Ocupacional se reuniu com a equipe de Segurança no Trabalho para, juntos, avaliarem alguns riscos potenciais no ambiente laboral e o estabelecimento de medidas preventivas.

Essas ações correspondem à seguinte fase da Higiene Ocupacional:

- (A) controle de riscos.
- (B) avaliação de riscos.
- (C) antecipação de riscos.
- (D) reconhecimento de riscos.
- (E) minimização de riscos.

**46**

O funcionário que trabalha na execução de exames radiológicos (raios-X e mamografia) está exposto ao risco causado por um agente

- (A) físico.
- (B) químico.
- (C) biológico.
- (D) ergonômico.
- (E) ultravioleta.

**47**

Relacione os nutrientes apresentados a seguir às suas respectivas características.

1. Lipídeos
  2. Proteínas
  3. Vitaminas
  4. Carboidratos
- ( ) Principais fontes de energia necessária para o homem se movimentar, trabalhar e viver.
  - ( ) Substâncias em maior quantidade no corpo humano depois da água.
  - ( ) Termo genérico que engloba um grupo heterogêneo de componentes, incluindo os ácidos graxos.
  - ( ) Substâncias orgânicas, que não são sintetizadas pelo corpo e dividem-se em lipossolúveis e hidrossolúveis.

Assinale a opção que mostra a relação correta, segundo a ordem apresentada.

- (A) 1, 2, 3 e 4.
- (B) 4, 2, 1 e 3.
- (C) 2, 3, 4 e 1.
- (D) 3, 1, 4 e 2.
- (E) 4, 3, 1 e 2.

**48**

Um servidor de determinado órgão público sentiu-se mal durante o trabalho e foi atendido no serviço de saúde da instituição. Durante o atendimento, diante do relato, dos sinais e sintomas apresentados, o médico suspeitou de tuberculose.

Nesse caso, sobre a *notificação compulsória*, assinale a afirmativa correta.

- (A) Deve ser realizada em até 24 horas, a partir do conhecimento da doença.
- (B) Apenas pode ser realizada por instituições diretamente ligadas à Vigilância Epidemiológica.
- (C) Deve ser realizada em até 7 dias, a partir do conhecimento da doença.
- (D) Deve ser feita apenas pelo médico que realizou o atendimento.
- (E) Não precisa ser feita, porque se trata apenas de uma suspeita.

**49**

Ao prestar assistência rotineira a um paciente com sarampo, recomenda-se que o profissional de saúde use o seguinte Equipamento de Proteção Individual – EPI:

- (A) Propé.
- (B) Óculos de proteção.
- (C) Avental estéril.
- (D) Máscara respirador.
- (E) Luva estéril.

**50**

Um funcionário que atua no setor de combustíveis (gasolina, álcool, óleo diesel) e sofre constante exposição ocupacional aos solventes usados nessas atividades, pode ter várias complicações de saúde.

O órgão do sistema digestivo mais acometido pela exposição a esse tipo de composto é o

- (A) estômago.
- (B) pâncreas.
- (C) esôfago.
- (D) intestino.
- (E) fígado.

**51**

Em relação ao Serviço Especializado em Engenharia de Segurança e em Medicina do Trabalho – SESMET de uma empresa com Grau de Risco 2 e 1.200 funcionários, a norma regulamentadora estabelece que a equipe seja composta, entre outros, por

- (A) um auxiliar/técnico de enfermagem do trabalho.
- (B) dois auxiliares/técnicos de enfermagem do trabalho.
- (C) três auxiliares/técnicos de enfermagem do trabalho.
- (D) quatro auxiliares/técnicos de enfermagem do trabalho.
- (E) nenhum auxiliar/técnico de enfermagem do trabalho.

**52**

Ao receber a denúncia de que em um determinado setor ocorreu uma situação de risco grave e iminente, que necessita da aplicação de medidas corretivas de emergência, o presidente da CIPA deverá

- (A) punir o culpado com advertência.
- (B) convocar uma reunião extraordinária.
- (C) registrar no livro de ocorrência da instituição.
- (D) convocar uma reunião ordinária.
- (E) abrir uma sindicância para investigação.

**53**

Considerando as Diretrizes da OIT sobre Sistemas de Gestão da Segurança e Saúde no Trabalho, analise as afirmativas a seguir e assinale V para a verdadeira e F para a falsa.

- ( ) A participação dos trabalhadores constitui um elemento essencial do sistema de gestão da SST, na organização.
- ( ) A documentação do sistema de gestão da SST deve estar sujeita a análises regulares, ser modificada quando necessário e ser acessível a todas as partes interessadas.
- ( ) Os trabalhadores devem ter o direito de consultar os registros relativos ao seu ambiente de trabalho e à sua saúde, respeitada a necessidade de confidencialidade.

As afirmativas são, na ordem apresentada, respectivamente:

- (A) V – F – V.
- (B) F – V – F.
- (C) V – V – V.
- (D) F – V – V.
- (E) F – F – F.

**54**

A OHSAS 18.001 é uma norma de Avaliação da Saúde e da Segurança do Trabalho, adotada por várias organizações que buscam aprimoramento nessa área.

Sobre essa norma, analise as afirmativas a seguir.

- I. A ferramenta da qualidade utilizada pela OHSAS 18001 é o PDCA, na qual uma das etapas compreende a monitorização dos processos.
- II. A Norma OHSAS é aplicável somente à administração pública direta, não podendo ser utilizada por empresas privadas.
- III. A documentação do sistema de gestão da segurança e saúde do trabalho deve incluir a política de SST e os objetivos.

Está correto o que se afirma em

- (A) I, somente.
- (B) II, somente.
- (C) III, somente.
- (D) I e III, somente.
- (E) I, II e III.

**55**

João ficou afastado do trabalho por 32 dias, após sofrer um acidente ocupacional. Nesse caso, ele deve realizar a avaliação clínica no exame médico de retorno ao trabalho, obrigatoriamente,

- (A) 24 horas após o dia de retorno.
- (B) 48 horas após o dia de retorno.
- (C) no primeiro dia da volta ao trabalho.
- (D) na semana anterior à semana de retorno.
- (E) no dia anterior ao da volta ao trabalho.

**56**

O trabalhador que fica exposto a radiações ionizantes na sua atividade laboral, deve, de acordo com a norma vigente, realizar exames complementares (hemograma completo e contagem de plaquetas) na sua admissão e, enquanto estiver no exercício da função,

- (A) bimestralmente.
- (B) semestralmente.
- (C) anualmente.
- (D) a cada 2 anos.
- (E) a cada 3 anos.

**57**

Sobre o Programa de Prevenção de Riscos Ambientais – PPRA, analise as afirmativas a seguir.

- I. O PPRA deverá conter, no mínimo, o planejamento anual com estabelecimento de metas e prioridades.
- II. Uma das etapas do PPRA é a antecipação e o reconhecimentos dos riscos.
- III. O empregador tem a responsabilidade de estabelecer, implementar e assegurar o cumprimento do PPRA como atividade permanente da empresa ou instituição.

Está correto o que se afirma em

- (A) I, somente.
- (B) II, somente.
- (C) III, somente.
- (D) I e III, somente.
- (E) II e III, somente.

**58**

Assinale a opção que indica a vacina que o profissional de saúde, que trabalha em uma unidade hospitalar, deve tomar anualmente.

- (A) *Influenza*.
- (B) Hepatite B
- (C) Tétano.
- (D) Tríplice viral.
- (E) Hepatite A.

**59**

Marcos, 35 anos, sofreu um acidente enquanto trabalhava e teve dois dedos da mão esquerda amputados. A equipe de saúde da instituição prestou os primeiros socorros e encaminhou o paciente para o atendimento hospitalar.

Assinale a opção que indica os cuidados que devem ser tomados com as partes amputadas, admitindo a possibilidade de reimplante.

- (A) Devem ser lavadas com soro fisiológico e conservadas em temperatura ambiente.
- (B) Devem ser envolvidas em um tecido limpo, colocadas em um saco plástico e este em um recipiente com gelo e água.
- (C) Devem ser lavadas com álcool a 70% e mantidas em um recipiente com água destilada.
- (D) Devem ser envolvidas em gazes estéreis e colocadas em um recipiente com grande quantidade de gelo.
- (E) Devem ser colocadas diretamente no gelo, pois assim garante-se um resfriamento adequado.

**60**

Os dados obtidos nos exames médicos de um funcionário, incluindo avaliação clínica, exames complementares, as conclusões e as medidas aplicadas, devem ser registrados em prontuário clínico individual e mantidos pela instituição após o desligamento do trabalhador por, no mínimo,

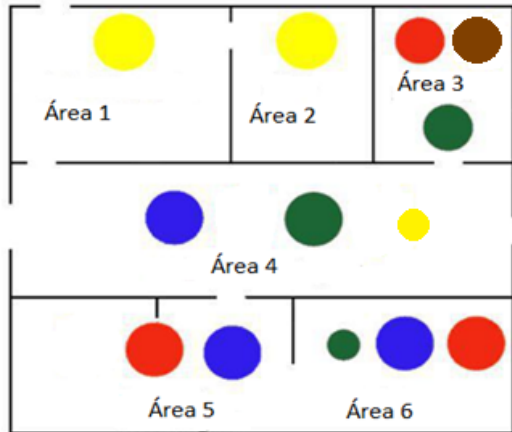
- (A) 5 anos.
- (B) 10 anos.
- (C) 15 anos.
- (D) 20 anos.
- (E) 25 anos.

## Questão Discursiva

1

Diante do aumento do número de acidentes de trabalho e de afastamentos por doenças ocupacionais, os profissionais dos Serviços Especializados em Engenharia de Segurança e em Medicina do Trabalho, juntamente com a CIPA, se reuniram para, entre outros itens, analisar os mapas de risco da instituição.

Considerando o mapa de risco apresentado a seguir,



- faça um breve resumo sobre a importância dessa metodologia na Segurança e Saúde do Trabalhador.
- especifique os tipos de riscos (físicos, químicos, biológicos, ergonômicos ou de acidentes) representados na Área 3 (três).
- cite um exemplo de agente ou fator de risco para cada tipo de risco identificado.
- aponte uma ação preventiva ou de promoção da saúde para cada agente ou fator de risco citado.

Exemplo:

**Preto** - Riscos ergonômicos

**Agente ou fator de risco:** postura inadequada

**Ação preventiva:** orientações a respeito da importância de uma postura adequada, pausas controladas, etc.





Realização

